

প্রশ্ন পত্র 1
ভাগ ক- পঠন

মুঠ নম্বৰ 50

1. তলত দিয়া শব্দবোৰৰ 'প' আৰু 'ল' আখৰত ঘেৰ দিয়ক— 1x6=6


প— পখিলা বিপদ তপত
ল— ল'ৰা কলম খোল

2. শব্দবোৰ ছবিৰ লগত মিলাওক — 1x5=5

চৰাই




বিদ্যালয়




পখিলা



ধান



ভালুক



3. 'ক' অংশৰ বাক্যাংশৰ লগত 'খ' অংশৰ সঠিক বাক্যাংশ মিলাওক — $2 \times 5 = 10$

'ক' অংশ	'খ' অংশ
ক) জাবৰ জেঁথৰ	ক) আমি হিচাপ কৰিব পাৰোঁ।
খ) কে.ওৱাই.চি হ'ল	খ) অচিনাকী ব্যক্তিক কেতিয়াও নিদিব।
গ) কেলকুলেটৰৰ যোগেদি	গ) য'তে ত'তে পেলাব নালাগে।
ঘ) আপোনাৰ যিকোনো পিন/অ. টি.পি / পাছৱৰ্ড	ঘ) কোনো ব্যক্তিৰ পৰিচয় আৰু ঠিকনা লিপিবদ্ধ কৰা বেংকৰ এটা প্ৰক্ৰিয়া।

4. ছবিখন ভালকৈ মন কৰক। ছবিত দেখা পোৱা যিকোনো চাৰিটা বিষয় বস্তুৰ নামত ঘেৰ দিয়ক — $2 \times 4 = 8$



হালোৱা দাৱনি গছ ট্ৰেক্টৰ জাপি চৰাই

5. তলৰ পোষ্টাৰখন ভালদৰে পঢ়ক। তলত দিয়া শুদ্ধ বাক্যত (✓) আৰু অশুদ্ধ বাক্যত (✗) চিন দিয়ক — $3 \times 3 = 9$



- ক) ভোটদান গণতান্ত্ৰিক অধিকাৰ।
- খ) ভাৰতবৰ্ষত 21 বছৰ বয়সৰ পৰা ভোটাধিকাৰ পোৱা যায়।
- গ) ভোটদান কৰা মেচিনটোক ই.ভি.এম মেচিন বুলি কোৱা হয়।

6. গদ্যাংশ পঢ়ি শুদ্ধ বাক্যত (✓) আৰু অশুদ্ধ বাক্যত (✗) চিন দিয়ক — $2 \times 6 = 12$

ধান তৃণজাতীয় ঔষধি গছ। এই খেতিৰ বাবে যথেষ্ট পৰিমাণে বৰষুণ হোৱা, গৰম দেশ উপযোগী। ধানগছ সাধাৰণতে এক ডেৰমিটাৰ মান ওখ হয়। ইয়াৰ গা-গছৰ গাঁঠিৰ পৰা পাত ওলায়। ধানখেতি সাধাৰণতে চাৰি প্ৰকাৰৰ। যেনে — শালিধান, বৰোধান, বাওধান, আছধান।

ধানখেতি সাধাৰণতে গ্ৰীষ্ম প্ৰধান দেশত যথেষ্ট পৰিমাণে হয়। অসম, পশ্চিমবঙ্গ, পঞ্জাব, কেৰেলা আদিত ধানখেতি যথেষ্ট ভাল হয়। ইয়াৰ উপৰিও চীন, জাপান, শ্ৰীলংকা, বাংলাদেশ আদিত ধানখেতি যথেষ্ট উৎপাদন হয়।

ধানৰপৰা চাউল হয়। চাউলৰপৰা ভাত হয়। ভাত আমাৰ প্ৰধান খাদ্য। ধানৰ পৰা চিৰা, মুড়ি, আঠৈ আদি তৈয়াৰ কৰা হয়। ধানৰপৰা তুঁহ, খুদ আদি ওলায়। এইবোৰ গৰু ম'হৰ ভাল খাদ্য। ধানখেৰবোৰ গৰু ম'হৰ খাদ্য। এইবোৰ বিক্ৰী কৰি খেতিয়ক লাভবান হয়।

- ক) ধান তৃণজাতীয় ঔষধি গছ।
- খ) ধান গছ সাধাৰণতে এক ডেৰমিটাৰ মান ওখ হয়।
- গ) ধানখেতি সাধাৰণতে শীতপ্ৰধান দেশত যথেষ্ট পৰিমাণে হয়।
- ঘ) ধানখেতি সাধাৰণতে চাৰি প্ৰকাৰৰ।
- ঙ) অসম, পশ্চিমবঙ্গ, পঞ্জাব, কেৰেলা আদি ঠাইত ধানখেতি ভাল নহয়।
- চ) ধানৰপৰা পোৱা তুঁহ, খুদ আদি গৰু-ম'হৰ ভাল খাদ্য।

1. নিম্নলিখিত আখৰেৰে দুটাকৈ শব্দ গঠন কৰি লিখক—

2x3=6


ব ঃ _____




গ ঃ _____

স ঃ _____

2. ছবি চাই নাম লিখক —

2x5=10





3. সঠিক শব্দ বাছি বাক্য সম্পূৰ্ণ কৰক —

2x4=8

দেশপ্ৰেমিক, মোবাইল ফোন, জোনবিল মেলা, শিক্ষা

ক) _____ ব জৰিয়তে আমি নিজৰ খবৰ আনলৈ পঠিয়াব পাৰোঁ।

ক) মানৱ জীৱনত _____ ব প্ৰয়োজন অধিক।

ক) দেশক ভালপোৱা লোকক _____ বোলে।

ক) _____ পাহাৰ ভৈয়ামৰ সকলো লোকৰ মিলনভূমি।

4. নিম্নলিখিত শব্দৰে বাক্য ৰচনা কৰক —

3x3=9

ডাক-ঘৰ : _____

পৰিৱেশ : _____

পঢ়া শুনা : _____

5. আপোনাৰ গাঁওখনৰ আৰু জিলাখনৰ নাম লিখক —

1x2=2

6. তলত দিয়া ছবিখন চাই তাৰ বিষয়ে পাঁচশাৰী বাক্য লিখক —

3x5=15



ক) _____

খ) _____

গ) _____

ঘ) _____


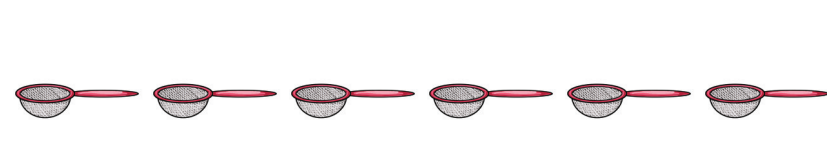

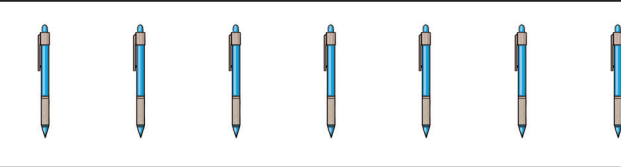

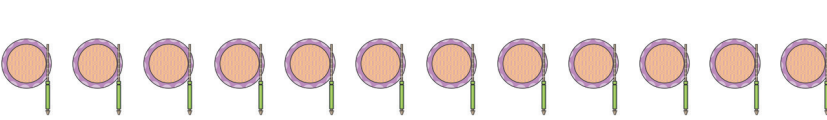
ঙ) _____

ভাগ গ- সংখ্যা জ্ঞান

মুঠ নম্বৰ : 50

1. গণনা কৰি মিলাওক—

$$1 \times 6 = 6$$

	6
	7
	10
	19
	12
	25

2. সঠিক সংখ্যাৰে খালী ঠাই পূৰ কৰক —

$$1 \times 5 = 5$$

ক) 2, —, 6, 8

খ) 10, 20, —, 40

গ) 4, —, 12, 16




ঘ) 3, 9, —, 15

ঙ) 4, 6, 8, —

3. 'ক' অংশত থকা ঘড়ীৰ সময় চাই 'খ' অংশৰ লগত মিলাওক — $1 \times 3 = 3$

'ক' অংশ

'খ' অংশ

	7.10 AM
	2.45 PM
	12 AM

4. সমাধান কৰক —

$2 \times 4 = 8$

ক)
$$\begin{array}{r} 12 \\ + 16 \\ \hline \end{array}$$

খ)
$$\begin{array}{r} 16 \\ \times 5 \\ \hline \end{array}$$

গ)
$$\begin{array}{r} 49 \\ - 29 \\ \hline \end{array}$$

ঘ)
$$7 \overline{)49}$$

5. ক) অনিমাৰ হাতত 20 টকা আছে। তাইৰ মাকে 12 টকা দিলে। এতিয়া অনিমাৰ হাতত সৰ্বমুঠ কিমান টকা আছে? $1 \times 4 = 4$

খ) ধনীৰামে এটা খৰাহী 25 টকাকৈ বিক্ৰী কৰিলে। 5 টা খৰাহী বিক্ৰী কৰি
ধনীৰামে কেইটকা পাব? $1 \times 4 = 4$

6. তলৰ 12 ঘণ্টীয়া সময়ক 24 ঘণ্টীয়া সময়লৈ পৰিবৰ্তন কৰক। $2 \times 4 = 8$


ক) 6.15 PM =

খ) 4.20 PM =

গ) 8.15 PM =

ঘ) 9.50 PM =

7. ঘড়ী চাই সময় লিখক— $2 \times 4 = 8$



8. কেলেণ্ডাৰ চাই তলৰ প্ৰশ্নবোৰৰ উত্তৰ লিখক— $1 \times 4 = 4$

জুলাই						
দেও	সোম	মঙল	বুধ	বৃহস্পতি	শুকুৰ	শনি
		1	2	3	4	5
6	7	8	9	10	11	12
13	14	15	16	17	18	19
20	21	22	23	24	25	26
27	28	29	30	31		

ক) জুলাই মাহত কিমান দিন থাকে? _____

খ) জুলাই মাহত কেইটা দেওবাৰ আছে? _____

গ) 17 জুলাইত কি বাৰ? _____

ঘ) জুলাই মাহটো কোনটো বাৰত আৰম্ভ হৈছে? _____