

প্ৰশ্নপত্ৰ-2
ভাগ ক - পঠন

মুঠ নম্বৰ - 50






1. তলত দিয়া শব্দবোৰৰ ‘শ’ আৰু ‘ত’ আখৰত ঘেৰ দিয়ক—

$1 \times 6 = 6$

- শ শগুণ দশম বমেশ
ত তৰল যঁতৰ জনতা

2. শব্দবোৰ সঠিক ছবিৰ সৈতে মিলাওক —

$1 \times 5 = 5$

(ক)	জাপি	
(খ)	দলং	
(গ)	ঔ-টেঙা	
(ঘ)	কলম	
(ঙ)	কঁঠাল	

3. ‘ক’ অংশৰ বাক্যাংশৰ সৈতে ‘খ’ অংশৰ সঠিক বাক্যাংশ মিলাওক —

$2 \times 5 = 10$

‘ক’ অংশ	‘খ’ অংশ
(ক) সত্যৰ	দৈ তৈয়াৰ কৰা হয়।
(খ) সদায় সময়মতে	প্ৰাণীৰ প্ৰাণ।
(গ) পানীয়েই	শিক্ষাই অমূল্য সম্পদ।
(ঘ) গাখীৰৰ পৰা	সদায় জয়।
(ঙ) মানুহৰ জীৱনত	কাম কৰিব লাগে।

4. তলৰ ছবিখনলৈ ভালদৰে মন কৰক। ছবিত দেখা পোৱা যিকোনো চাৰিটা বিষয়বস্তুৰ নামত ঘেৰ
দিয়ক—

$$2 \times 4 = 8$$



খেলপথাৰ ছাত্ৰ-ছাত্ৰী ফুটবল শ্ৰেণীকোঠা বিদ্যালয় নদী

5. পোষ্টাৰখন ভালদৰে পঢ়ক। তলত দিয়া শুদ্ধ বাক্যত (✓) আৰু অশুদ্ধ বাক্যত (×) চিন দিয়ক—

$$3 \times 3 = 9$$

প্ৰকৃতিক বচাওক, পৃথিৱীক বচাওক।



জধে-মধে গছ নাকাটিব।



গছ থাকিলেহে মানুহ থাকিব।



প্ৰদূষণ ৰোধ কৰিবলৈ
চেপ্তা কৰক।



লেতেৰা জাবৰ-জোঁথৰ পেলাবলৈ
ডাষ্টবিন ব্যৱহাৰ কৰক।

(ক) জধে-মধে গছ কাটিব লাগে।

(খ) জাবৰ-জোঁথৰবোৰ ডাষ্টবিনত পেলাব লাগে।

(গ) গছ থাকিলেহে মানুহ থাকিব।

5. গদ্যাংশ পঢ়ি শুদ্ধ বাক্যত (√) আৰু অশুদ্ধ বাক্যত (×) চিন দিয়ক — $2 \times 6 = 12$

আমাৰ ৰাজ্যখনৰ নাম অসম। অসমৰ ৰাজধানী দিছপুৰ। অসমৰ মুঠ জিলাৰ সংখ্যা 35 খন। ইয়াৰ দুখন প্ৰধান নদীৰ নাম হ'ল ব্ৰহ্মপুত্ৰ আৰু বৰাক। অসমৰ পুৰনি নাম আছিল কামৰূপ আৰু ইয়াৰ ৰাজধানী আছিল প্ৰাগজ্যোতিষপুৰ। কপৌফুলক অসমৰ জাতীয় ফুল হিচাপে জনা যায়। অসমৰ জাতীয় জন্তু হিচাপে এশিঙিয়া গঁড় আৰু দেওহাঁহক জাতীয় পক্ষী হিচাপে জনা যায়।

(ক) আমাৰ ৰাজ্যখনৰ নাম অসম।

(খ) অসমৰ মুঠ জিলাৰ সংখ্যা 32।

(গ) অসমৰ ৰাজধানীখনৰ নাম বামপুৰ।

(ঘ) পুৰনি অসম ৰাজ্যৰ নাম আছিল কামৰূপ।

(ঙ) পদুম ফুলক অসমৰ জাতীয় ফুল হিচাপে জনা যায়।

(চ) অসমৰ জাতীয় পক্ষী হ'ল দেওহাঁহ।

ভাগ খ - লিখন

মুঠ নম্বৰ - 50

1. নিম্নলিখিত আখৰেৰে এটাকৈ শব্দ গঠন কৰি লিখক -

$2 \times 3 = 6$

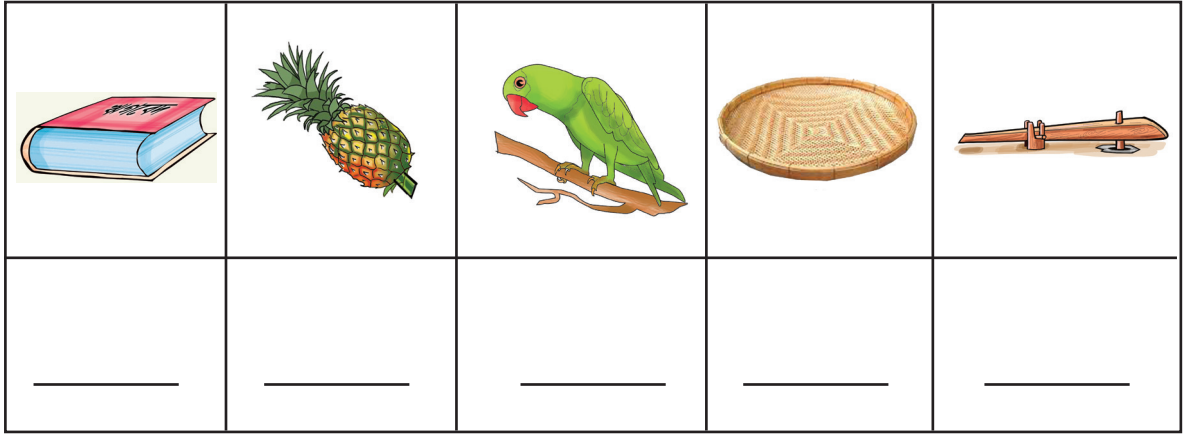
ব

ক্ষ.....

ত.....

2. ছবি চাই নাম লিখক -

$2 \times 5 = 10$



3. সঠিক শব্দ বাছি বাক্য সম্পূৰ্ণ কৰক -

$2 \times 4 = 8$

ভোটাধিকাৰ পৰিষ্কাৰ উপকাৰী শিক্ষা

(ক) ৰাতিপুৱা খোজকঢ়াটো শৰীৰৰ বাবে

(খ) ভাৰতীয় নাগৰিকে 18 বছৰ বয়সত..... লাভ কৰে।

(গ) আমাৰ চৌপাশ সদায়.....কৈ ৰাখিব লাগে।

(ঘ)আমাৰ জীৱনৰ অমূল্য সম্পদ।

4. নিম্নলিখিত শব্দৰে বাক্য ৰচনা কৰক -

$3 \times 3 = 9$

বিদ্যালয় _____

নাঙল _____

বজাৰ _____

5. আপোনাৰ গাঁও বা নগৰখনৰ নাম আৰু জিলাখনৰ নাম লিখক-

1 × 2 = 2

6. তলত দিয়া ছবিখন চাই তাৰ বিষয়ে পাঁচশাৰী বাক্য লিখক-

3 × 5 = 15



(ক) _____

(খ) _____

(গ) _____

(ঘ) _____

(ঙ) _____







Assam (Assamese)

ভাগ গ - সংখ্যাজ্ঞান

মুঠ নম্বৰ - 50

1. গণনা কৰি মিলাওক -

$1 \times 6 = 6$

	7
	16
	15
	25
	9
	11

2. সঠিক সংখ্যাৰে খালী ঠাই পূৰ কৰক -

$1 \times 5 = 5$

(ক)	10	—	30	40
(খ)	5	10	—	20
(গ)	—	14	21	28
(ঘ)	3	6	9	—
(ঙ)	2	—	6	8

3. বাওঁফালে থকা ছবিখনৰ ৰং কৰা অংশৰ লগত সোঁফালে থকা ভগ্নাংশবোৰ মিলাওক -

$$1 \times 3 = 3$$

	$\frac{1}{2}$
	$\frac{2}{4}$
	$\frac{2}{3}$

4. সমাধান কৰক -

$$2 \times 4 = 8$$

(ক)
$$\begin{array}{r} 22 \\ + 21 \\ \hline \end{array}$$

(খ)
$$\begin{array}{r} 22 \\ - 21 \\ \hline \end{array}$$

(গ)
$$\begin{array}{r} 96 \\ \div 6 \\ \hline \end{array}$$

(ঘ)
$$\begin{array}{r} 22 \\ \times 6 \\ \hline \end{array}$$

5. (ক) এজন মানুহৰ 2 খন কাণ। তেনেহলে জন 10 মানুহৰ মুঠ কেইখন কাণ হ'ব?

$$1 \times 4 = 4$$

(খ) গুৱাহাটীলৈ যাবলৈ বিপুল ৰে'লত বহি আছিল। ৰে'লখনে 15 মিনিট পলমকৈ অৰ্থাৎ 9.50 AM বজাত যাত্ৰ আৰম্ভ কৰিলে। আচলতে কিমান সময়ত ৰে'লখনে যাত্ৰা আৰম্ভ কৰিব লাগিছিল?

$$1 \times 4 = 4$$

6. তলৰ 12 ঘণ্টীয়া ঘড়ীৰ সময়ক 24 ঘণ্টীয়া সময়লৈ পৰিৱৰ্তন কৰক - $2 \times 4 = 8$


ক) 5 . 38 PM =

খ) 9 . 53 PM =

গ) 11 . 21 PM =

ঘ) 2 . 31 PM =

7. ঘড়ী চাই সময় লিখক - $2 \times 4 = 8$



.....বাজি.....মিনিট



.....বাজি.....মিনিট

8. কেলেণ্ডাৰ চাই তলৰ প্ৰশ্নবোৰৰ উত্তৰ লিখক - $1 \times 4 = 4$

জুলাই

সোম	মঙ্গল	বুধ	বৃহস্পতি	শুক্র	শনি	দেও
	1	2	3	4	5	6
7	8	9	10	11	12	13
14	15	16	17	18	19	20
21	22	23	24	25	26	27
28	29	30	31			

ক) জুলাই মাহত _____ দিন থাকে।

খ) জুলাই মাহত মুঠ কেইটা বৃহস্পতিবাৰ আছে? _____

গ) 25 জুলাই তাৰিখে কি বাৰ? _____

ঘ) জুলাই মাহটো কোনটো বাৰত আৰম্ভ হৈছে? _____

Assam (Assamese)