

প্ৰশ্ন পত্ৰ- 3

ভাগ ক- পঠন

মুঠ নম্বৰ — 50

1. তলত দিয়া শব্দবোৰৰ 'থ' আৰু 'ম' আখৰত ঘেৰ দিয়ক—  $1 \times 6 = 6$

(থ)

থাপনা

কথন

কথা

(ম)

মকৰা

কমলা


খৰম

2. 'ক' অংশৰ লগত 'খ' অংশ মিলাওক—  $1 \times 5 = 5$

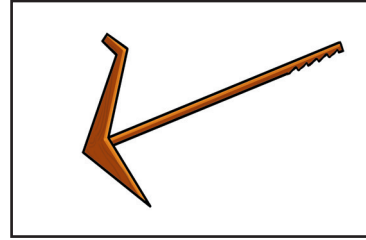
'ক' অংশ

'খ' অংশ

ঘৰ




আম




ছাগলী



নাঙল




মাছ



3. 'ক' অংশৰ বাক্যাংশৰ লগত 'খ' অংশৰ সঠিক বাক্যাংশ মিলাওক— 2x5=10

'ক' অংশ	'খ' অংশ
থৰ ভাৰতৰ এখন	আঁঠুৱা ব্যৱহাৰ কৰক।
হকী ভাৰতৰ	আমাৰ অধিকাৰ।
কাজিৰঙা	বিশাল মৰুভূমি।
মহৰ পৰা ৰক্ষা পাবলৈ	এশিঙীয়া গঁড়ৰ বাবে বিখ্যাত।
ভোটদান	জাতীয় খেল।

4. তলৰ ছবিখন ভালকৈ মন কৰক। ছবিত দেখা পোৱা যি কোনো চাৰিটা বিষয় বস্তুৰ নামত ঘেৰ দিয়ক — 2x4=8



শিক্ষক

ছাত্ৰ

ৰান্ধনী

ঘড়ী

চাইকেল

টেবুল

কিতাপ

বাকচ

5. পোষ্টাৰখন ভালদৰে পঢ়ক। তলত দিয়া শুদ্ধ বাক্যত (✓) আৰু অশুদ্ধ বাক্যত (✗) চিন দিয়ক — 2x4=8



- ক) ফল-মূল আৰু পাচলি খোৱাৰ আগতে ভালদৰে ধুই ল'ব নালাগে।
- খ) খোৱাৰ আগত ভালদৰে হাত ধুব লাগে।
- গ) মাটিত পৰা খাদ্য খাব নালাগে।
- ঘ) খাদ্য আৰু পানী ঢাকি ৰাখিব নালাগে।

6. তলৰ দফাটো পঢ়ি শুদ্ধ বাক্যত (✓) চিন আৰু অশুদ্ধ বাক্যত (✗) চিন দিয়ক— 2x5=10


পৃথিৱীত অনেক প্ৰাণী আছে। তাৰে কিছুমান ঘৰচীয়া। কিছুমান বনৰীয়া।  
গৰু এবিধ ঘৰচীয়া প্ৰাণী। ঘাঁহ ইহঁতৰ প্ৰধান খাদ্য। বাঘক ব্যাঘ্ৰ বোলে। ই  
বনৰীয়া প্ৰাণী। হৰিণ বনৰীয়া প্ৰাণী হ'লেও নহয়।

- |                                       |                          |
|---------------------------------------|--------------------------|
| ক) গৰু এবিধ ঘৰচীয়া প্ৰাণী।           | <input type="checkbox"/> |
| খ) ঘাঁহ বাঘৰ প্ৰধান খাদ্য।            | <input type="checkbox"/> |
| গ) বাঘক ব্যাঘ্ৰ বোলে।                 | <input type="checkbox"/> |
| ঘ) হৰিণ এবিধ উগ্ৰ প্ৰাণী।             | <input type="checkbox"/> |
| ঙ) পৃথিৱীত কেৱল বনৰীয়া প্ৰাণীহে আছে। | <input type="checkbox"/> |

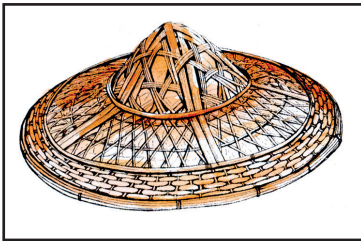
7. 'ক' অংশৰ ছবি চাই 'খ' অংশৰ সঠিক বৰ্ণটোৰ লগত মিলাওক— 1x3=3

'ক' অংশ


'খ' অংশ



জ



ক



হ

ভাগ খ- লিখন

মুঠ নম্বৰ — 50

1. নিম্নলিখিত আখৰেৰে দুটাকৈ শব্দ গঠন কৰি লিখক—

2x3=6


ক) শ \_\_\_\_\_

খ) চ \_\_\_\_\_


গ) প \_\_\_\_\_

2. ছবি চাই নাম লিখক—

2x5=10




\_\_\_\_\_




\_\_\_\_\_



\_\_\_\_\_



\_\_\_\_\_



\_\_\_\_\_

3. সঠিক শব্দ চিনাক্ত কৰি বাক্য সম্পূৰ্ণ কৰক—

2x4=8

মহাপুৰুষ	সঞ্চয়	ধৈৰ্য	বিদ্বান
----------	--------	-------	---------

ক) শ্ৰীমন্ত শঙ্কৰদেৱ এজন \_\_\_\_\_ ।

খ) \_\_\_\_\_ লোকে সকলোতে সন্মান পায়।

গ) \_\_\_\_\_ কৰা ভাল অভ্যাস।

ঘ) বিপদত \_\_\_\_\_ ধৰা উচিত।

4. নিম্নলিখিত শব্দৰে একোটাকৈ বাক্য ৰচনা কৰক —

3x3=9

পৰিবেশ \_\_\_\_\_

\_\_\_\_\_

বজাৰ \_\_\_\_\_

\_\_\_\_\_

ঢোল \_\_\_\_\_

\_\_\_\_\_

5. আপোনাৰ বিষয়ে দুইশাৰী বাক্য লিখক —

1x2=2

ক) \_\_\_\_\_

খ) \_\_\_\_\_

5. তলৰ ছবিখনৰ বিষয়ে পাঁচশাৰী বাক্য লিখক —

3x5=15



ক) \_\_\_\_\_

খ) \_\_\_\_\_

গ) \_\_\_\_\_

ঘ) \_\_\_\_\_







ঙ) \_\_\_\_\_

ভাগ গ - সংখ্যা জ্ঞান

মুঠ নম্বৰ- 50

1. গণনা কৰি মিলাওক —

$1 \times 6 = 6$

	6
	15
	13
	12
	7
	18

2. সঠিক সংখ্যাৰে খালী ঠাই পূৰ কৰক—

$1 \times 5 = 5$

ক) 110, \_\_\_\_\_, 130, 140

খ) 33 \_\_\_\_\_, 35, 36

গ) 15, 18, \_\_\_\_\_, 24

ঘ) 48, 47, \_\_\_\_\_, 45

ঙ) 20, 22, \_\_\_\_\_, 26

3. তলত দিয়া সামগ্ৰীবোৰ কিনিবলৈ আপুনি কিমান টকা দিব মিলাওক —

$$1 \times 3 = 3$$

 ₹ 240/-	
 ₹ 600/-	
 ₹ 750/-	

4. সমাধান কৰক —

$$2 \times 4 = 8$$

ক)

$$7 \overline{)56}$$

খ) 88

$$- 61$$

গ) 33

$$+ 42$$

ঘ) 61

$$\times 6$$

5. ক) এখন দোকানত মীনাই 122 টকাৰ শাক পাচলি আৰু 131 টকাৰ ফল কিনিলে। দোকান খনত মুঠ তেওঁ কিমান টকা দিলে? 4

---



---

খ) এটা মোনাত 6 কিলোগ্ৰামকৈ আটা ভৰাব লাগে। গতিকে 66 কিলোগ্ৰাম আটা ভৰাবলৈ মুঠ কিমান বেগৰ প্ৰয়োজন হ'ব? 4

---



---

6. খালী ঠাই পূৰ কৰক —

2x4=8

ক) 600 চেণ্টিমিটাৰ = \_\_\_\_\_ মিটাৰ।


খ) 5 কিলোমিটাৰ = \_\_\_\_\_ মিটাৰ।

গ) 4 পোৱা = \_\_\_\_\_ গ্ৰাম।

ঘ) 4000 গ্ৰাম = \_\_\_\_\_ কিলোগ্ৰাম।

7. ঘড়ী চাই সময় লিখক —

2x4=8



8. কেলেণ্ডাৰ চাই তলৰ প্ৰশ্নবোৰৰ উত্তৰ লিখক —

1x4=4

ফেব্ৰুৱাৰী 2025						
দেওবাৰ	সোমবাৰ	মঙলবাৰ	বুধবাৰ	বৃহস্পতিবাৰ	শুক্ৰবাৰ	শনিবাৰ
						1
2	3	4	5	6	7	8
9	10	11	12	13	14	15
16	17	18	19	20	21	22
23	24	25	26	27	28	

ক) ফেব্ৰুৱাৰী মাহত মুঠ কিমান দিন আছে? \_\_\_\_\_

খ) ফেব্ৰুৱাৰী মাহত কেইটা সোমবাৰ আছে? \_\_\_\_\_

গ) ফেব্ৰুৱাৰী মাহ কোনটো বাৰত শেষ হৈছে? \_\_\_\_\_

ঘ) 25 তাৰিখ কি বাৰ? \_\_\_\_\_