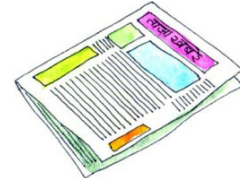




परीक्षण मद 33

1. नीचे दिए गए चित्रों के नाम लिखिए-

3 × 2 = 6



2. चित्र में दी गई किन्हीं दो चीज़ों के नाम लिखिए-

2 × 2 = 4



1. _____

2. _____

हमने सीखा- स्पष्ट रूप से अक्षर, शब्द, छोटा टेक्सट लिखना । प्रवेशिका की भाषा अथवा अपनी भाषा में चीज़ों के नाम लिखना ।