


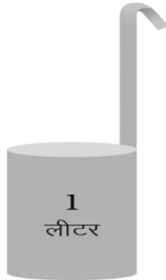

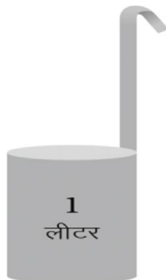



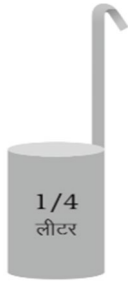


परीक्षण मद - 1

1. मापक पर लिखी माप को जोड़िए-

5×2=10

क.		+		=	_____ लीटर
ख.	_____ लीटर	+		=	
ग.		+	_____ मि.ली.	=	
घ.		+	_____ मि.ली.	=	
ङ.		+		=	_____ मि.ली.

हमने सीखा - 1 लीटर,  $\frac{1}{2}$  लीटर,  $\frac{1}{4}$  लीटर को मि.ली में नापना। जोड़ के तथ्यों को समझना एवं दैनिक जीवन के संदर्भों में इनका उपयोग करना।