






परीक्षण मद – 15

प्र.1 नीचे दी गई वस्तुओं के समूह को उसकी संख्या से मिलाइए-

$5 \times 1 = 5$

क.		5
ख.		1
ग.		2
घ.		3
ङ.		8

हमने सीखा- दैनिक जीवन में उपयोग व दिखने वाली वस्तुओं से 1 से 10 तक की गिनती एवं दैनिक जीवन में उसका उपयोग करना।