



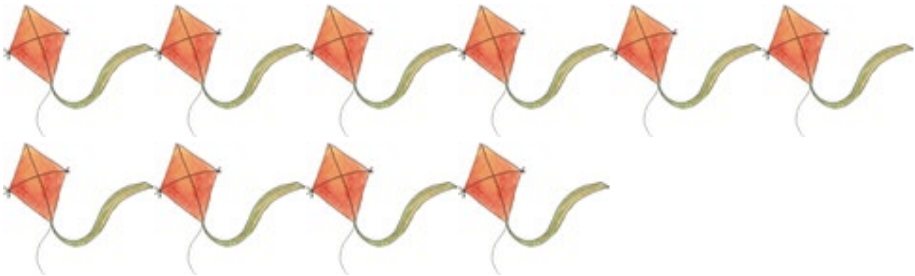


परीक्षण मद – 17

प्र. 1 नीचे दिए गए चित्रों के समूह को सही संख्या से मिलाइए-

$5 \times 1 = 5$

क.		5
ख.		3
ग.		4
घ.		1
ड.		10

हमने सीखा- दैनिक जीवन में उपयोग होने व देखे जाने वाली वस्तु से 1 से 10 तक की गिनती एवं दैनिक जीवन में उसका उपयोग करना।