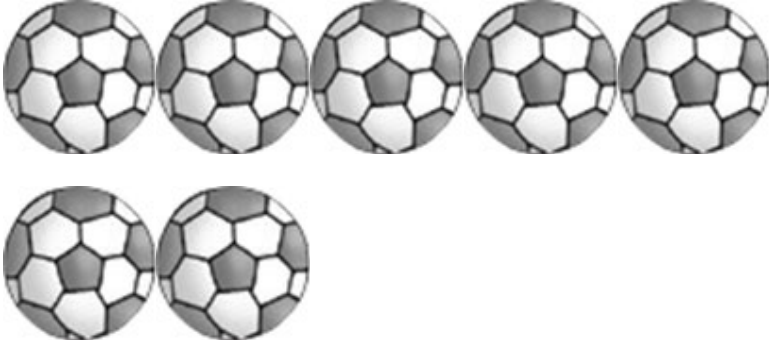






परीक्षण मद – 18

प्र. 1 नीचे दिए गए चित्रों के समूह को सही संख्या से मिलाइए- $5 \times 1 = 5$

क.		8
ख.		1
ग.		2
घ.		9
ङ.		7

हमने सीखा- दैनिक जीवन में उपयोग होने व देखे जाने वाली वस्तु से 1 से 10 तक की गिनती एवं दैनिक जीवन में उसका उपयोग करना।