



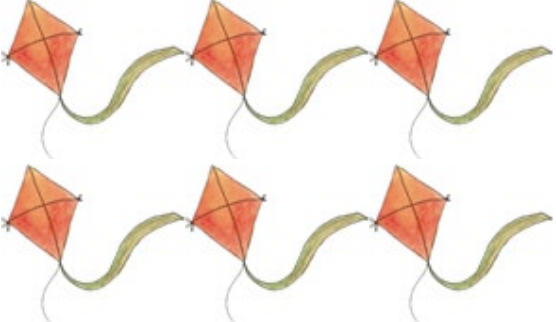







परीक्षण मद – 19

प्र.1 नीचे दिए गए चित्रों को गिनिए और सही संख्या से मिलाइए- $5 \times 1 = 5$

	5	
	3	
	8	
	2	
	6	

हमने सीखा- दैनिक जीवन में उपयोग होने व देखे जाने वाली वस्तु से 1 से 10 तक की गिनती एवं दैनिक जीवन में उसका उपयोग करना।