







परीक्षण मद – 21

प्र. 1 नीचे दी गई संख्याओं को वस्तुओं के समूह से मिलाइए-

$6 \times 1 = 6$

2	
4	
7	
6	
5	
3	

हमने सीखा- दैनिक जीवन में उपयोग होने और देखे जाने वाली वस्तुओं से 1 से 10 तक की गिनती एवं दैनिक जीवन में उसका उपयोग करना।