









परीक्षण मद – 23

प्र. 1 नीचे दी गई वस्तुओं को घटाकर सही संख्या लिखिए-

4×1=4

| | | | | |
|---|---|--|---|--|
|  | - |  | = | |
|  | - |  | = | |
|  | - |  | = | |
|  | - |  | = | |

हमने सीखा- दैनिक जीवन में उपयोग होने और देखे जाने वाली वस्तु से 1 से 10 तक गिनती का जोड़ व घटाना।