









परीक्षण मद – 25

प्र. 1 नीचे दी गई वस्तुओं को जोड़कर व घटाकर सही संख्या लिखिए-

$4 \times 1 = 4$

	+		
	+		
	-		
	-		

हमने सीखा- दैनिक जीवन में उपयोग होने और देखे जाने वाली वस्तु से 1 से 10 तक गिनती का जोड़ व घटाना।