

परीक्षण मद – 29

नीचे दिए गए प्रश्नों के उत्तर लिखिए-

प्र.1 राधा ने दिए गए दामों पर बाज़ार से सब्जियाँ खरीदीं-  $2 \times 1 = 2$

प्याज़ ₹ 40




टमाटर ₹ 30

आलू ₹ 25

भिंडी ₹ 50

(क) राधा ने कितने रुपए खर्च किए? ₹ \_\_\_\_\_

(ख) यदि राधा के पास ₹ 10, ₹ 5 के नोट हैं, तो वह प्रत्येक नोट के लिए कितने नोट देगी?

	=	_____
	=	_____
	=	_____

हमने सीखा- 5 से 100 तक की नोटों के संख्याओं के माध्यम से 1 से 100 तक की गिनतियों को पढ़ना, लिखना और पहचानना सीखा ।