









परीक्षण मद – 5

1. नीचे दिया गया सामान खरीदना है। इस वस्तु का मूल्य ₹50 के नोट तथा 5 के सिक्के में कैसे चुकाएँगे- 5×2=10

वस्तु(वस्तुओं के चित्र)	मूल्य (प्रति लीटर)	मात्रा	50 के नोट	5 के सिक्के
	₹50	 1 ½ लीटर	_____	_____
	₹95	 3 लीटर	_____	_____
	₹55	 2 लीटर	_____	_____
	₹140	 250 मि.ली	_____	_____

हमने सीखा - 1 लीटर, ½ लीटर, ¼ लीटर को मि.ली में मापना। मात्रा एवं मूल्य के हिसाब से लेन-देन करना। दैनिक जीवन में गुणा, भाग एवं जोड़ की सामान्य समझ का उपयोग करना।