





परीक्षण मद – 58

प्र. 1 रोहन ने 675 रु. की घड़ी खरीदी। वह दुकानदार को निम्न में से किस रूप में राशि देगा। सही विकल्प पर  चिह्न लगाइए-  $1 \times 5 = 5$

क	
ख	
ग	
घ	

हमने सीखा- जोड़, घटा, गुणन तथ्यों को समझना एवं दैनिक जीवन के संदर्भों में इनका उपयोग करना।