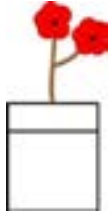
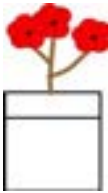

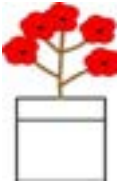



परीक्षण मद – 94

प्र. 1 यदि एक फूल का मूल्य 20 रुपये हैं, तो नीचे दिए गए फूलों के दाम लिखिए- 4×1=4

	=	20रु + 20रु = 40 रुपये
	=	_____
	=	_____
	=	_____
	=	_____

हमने सीखा- जोड़ एवं गुणा की समझ विकसित करना तथा दैनिक जीवन में जोड़ एवं गुणा का उपयोग करना।