

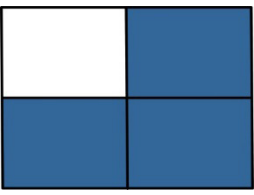
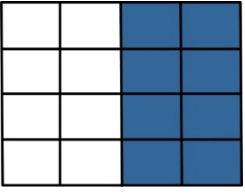
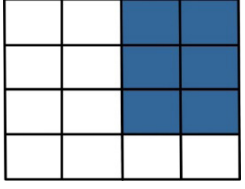


परीक्षण मद – 95

प्र.1 5 लोगों ने 5 दीवारों को नीचे दिए तरीकों से रंगी। प्रत्येक व्यक्ति ने कितनी दीवार रंगी यह देखकर दीवार के चित्र के सामने लिखिए-  
 $3 \times 2 = 6$

क		$1/2$
ख		_____
ग		_____
घ		$8/16$
ङ		_____

हमने सीखा- भिन्न की समझ विकसित करना तथा भिन्न का दैनिक जीवन में उपयोग करना।