

প্রশ্ন পত্র - 1
ভাগ ক- পঠন

মোট নম্বর 50

1. নীচের শব্দগুলোর 'প' এবং 'ল' অক্ষরকে বৃত্ত দিয়ে চিহ্নিত করুন —

1x6=6

প— প্রজাপতি বিপদ তপতী
ল— ছেলে কলম খোল


2. শব্দগুলোকে ছবির সঙ্গে মেলান—

1x6=6

পাখি




বিদ্যালয়




প্রজাপতি



ধান



ভালুক



3. 'ক' অংশ এবং 'খ' অংশ পড়ে সঠিক বাক্যাংশের সঙ্গে মেলান—1x6=6

'ক' অংশ	'খ' অংশ
ক) আবর্জনা	ক) আমরা হিসেব করতে পারি।
খ) কে.ওয়াই.সি হলো	খ) অপরিচিত ব্যক্তিকে কখনো দেবেন না।
গ) কেলকুলেটরের দ্বারা	গ) স্বাস্থ্যের জন্য প্রয়োজনীয়।
ঘ) আপনার যেকোনো পিন/ অ. টি.পি / পাসওয়ার্ড	ঘ) যেখানে সেখানে ফেলবেন না।
ঙ) ব্যায়াম	ঙ) কোনো ব্যক্তির পরিচয় এবং ঠিকানা লিপিবদ্ধ করার ব্যাক্তের একটি প্রক্রিয়া।

4. ছবিটি ভালো করে লক্ষ্য করুন। ছবিতে থাকা যেকোনো চারটি জিনিসের নাম বৃত্ত দিয়ে চিহ্নিত করুন — 2x4=8



কৃষক ঘর গাছ ট্রেक्टर জাপি পাখি

5. নীচের পোস্টারটি ভালো করে পড়ুন। নীচের উল্লেখিত শুদ্ধ বাক্যে (✓) এবং অশুদ্ধ বাক্যে (✗) চিহ্ন দিন। 3x3=9



- ক) ভোটদান গণতান্ত্রিক অধিকার।
- খ) ভারতবর্ষে 21 বছর বয়স থেকে ভোটাধিকার পাওয়া যায়।
- গ) ভোটদান করার মেশিনটিকে ই.ভি.এম মেশিন বলা হয়।

6. গদ্যাংশ পড়ে শুদ্ধ বাক্যে (✓) এবং অশুদ্ধ বাক্যে (✗) চিহ্ন দিন — 2x6=12

ধান তৃণজাতীয় ঔষধি গাছ। ধান চাষের জন্যে পর্যাপ্ত পরিমাণে বৃষ্টিপাত এবং গরম দেশ উপযোগী। ধানগাছ সাধারণতঃ এক-দেড়মিটার উচ্চ হয়। এই গাছের গিট থেকে পাতা নির্গত হয়। ধানক্ষেত সাধারণতঃ চার প্রকারের। যেমন — ১) শালিধান, ২) বোরোধান, ৩) বাওধান, ৪) আউশ ধান।

ধানক্ষেত সাধারণতঃ গ্রীষ্ম প্রধান দেশে যথেষ্ট পরিমাণে হয়। অসম, পশ্চিমবঙ্গ, পাঞ্জাব, কেরালা ইত্যাদি রাজ্যে ধান চাষ যথেষ্ট ভাল হয়। তদুপরি চীন, জাপান, শ্রীলংকা, বাংলাদেশ ইত্যাদি দেশে যথেষ্ট পরিমাণে ধান উৎপাদন হয়।

ধান থেকে চাউল হয়। চাউল থেকে ভাত হয়। ভাত আমাদের প্রধান খাদ্য। ধান থেকে চিড়া, মুড়ি, খৈ ইত্যাদি তৈরী করা হয়। ধান থেকে তুষ, খুদ, ভুসি ইত্যাদি পাওয়া যায়। এইগুলো গরু, মহিষের ভালো খাদ্য। ধানের খড় ও গরু-মহিষের খাদ্য। ধান বিক্রী করে কৃষক অনেক লাভবান হয়।

- ক) ধান তৃণজাতীয় ঔষধি গাছ।
- খ) ধান গাছ সাধারণতঃ এক-দেড়মিটার উচ্চ হয়।
- গ) ধান চাষ সাধারণতঃ শীতপ্রধান দেশে যথেষ্ট পরিমাণে হয়।
- ঘ) অসম, পশ্চিমবঙ্গ, পাঞ্জাব, কেরালা ইত্যাদি স্থানে ধান চাষ ভাল হয় না।
- ঙ) ধান থেকে প্রাপ্ত তুষ, খুদ, ভুসি ইত্যাদি গরু-মহিষের ভাল খাদ্য।






1. নিম্নলিখিত অক্ষরগুলির দ্বারা দুটো করে শব্দ গঠন করে লিখুন— $2 \times 3 = 6$

ব ঃ _____

গ ঃ _____

স ঃ _____

2. ছবি দেখে নাম লিখুন — $2 \times 5 = 10$



3. সঠিক শব্দ বেছে নিয়ে বাক্য সম্পূর্ণ করুন — $2 \times 4 = 8$

দেশপ্রেমিক, মোবাইল ফোন, জোনবিল মেলা, শিক্ষা

ক) _____ দ্বারা আমরা নিজেদের খবর অন্যদেরকে পাঠাতে পারি।

খ) মানব জীবনে _____ র প্রয়োজন অধিক।

গ) দেশকে যে ভালবাসে তাকে _____ বলে।

ঘ) _____ পাহাড় ভৈয়ামের প্রতিটি লোকের মিলনভূমি।

4. নিম্নলিখিত শব্দগুলির দ্বারা বাক্য রচনা করুন —

3x3=9

ডাক-ঘর : _____

পরিবেশ : _____

পড়া শোনা : _____

5. আপনার গ্রাম এবং জেলার নাম লিখুন —

1x2=2

5. নীচের ছবিটি দেখে তার বিষয়ে পাঁচটি বাক্য লিখুন।

3x5=15



ক) _____

খ) _____

গ) _____

ঘ) _____






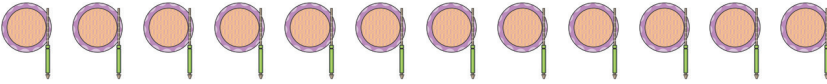
ঙ) _____

ভাগ 'গ' - সংখ্যা জ্ঞান

মোট নম্বর : 50

1. গণনা করে মেলান—

$1 \times 6 = 6$

	6
	7
	10
	19
	12
	25

2. সঠিক সংখ্যার দ্বারা শূন্যস্থান পূর্ণ করুন —

$1 \times 5 = 5$

ক) 2, _____, 6, 8

খ) 10, 20, _____, 40

গ) 4, _____, 12, 16

ঘ) 3, 9, _____, 15




ঙ) 4, 6, 8, _____,

3. বাঁদিকের ছবির সঙ্গে ডানদিকের অংশকে মেলান।

1x3=3

‘ক’ অংশ

‘খ’ অংশ

	7.10 AM
	2.45 PM
	12 AM

4. সমাধান করুন —

2x4=8

ক)
$$\begin{array}{r} 12 \\ + 16 \\ \hline \end{array}$$

খ)
$$\begin{array}{r} 16 \\ \times 5 \\ \hline \end{array}$$

গ)
$$\begin{array}{r} 49 \\ - 29 \\ \hline \end{array}$$

ঘ)
$$7\overline{)49}$$

5. ক) অনিয়ার হাতে 20 টাকা আছে। ওর মা ওকে 12 টাকা দিলো। এখন অনিয়ার হাতে সর্বমোট কত টাকা আছে?

1x4=4

খ) ধনীরাম একটা টুকরী 25 টাকায় বিক্রী করলো, 5 টা টুকরী বিক্রী করে ধনীরাম কত টাকা পাবে? $1 \times 4 = 4$

6. নীচের 12 ঘন্টার সময়কে 24 ঘন্টার সময়ে পরিবর্তন করুন। $2 \times 4 = 8$

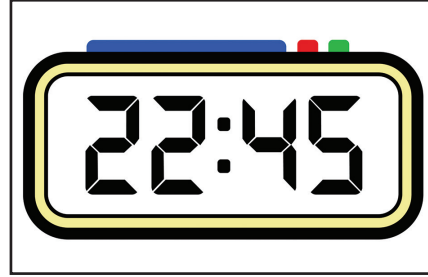

ক) 6.15 PM =

খ) 4.20 PM =

গ) 8.15 PM =

ঘ) 9.50 PM =

7. ঘড়ি দেখে সময় লিখুন। $2 \times 4 = 8$



8. ক্যালেন্ডার দেখে নীচের প্রশ্নগুলির উত্তর লিখুন। $1 \times 4 = 8$

জুলাই						
রবি	সোম	মঙ্গল	বুধ	বৃহস্পতি	শুক্র	শনি
		1	2	3	4	5
6	7	8	9	10	11	12
13	14	15	16	17	18	19
20	21	22	23	24	25	26
27	28	29	30	31		

ক) জুলাই মাসে কয় দিন থাকে? _____

খ) জুলাই মাসে কয়টি রবিবার আছে? _____

গ) 17 জুলাই কি বার? _____

ঘ) জুলাই মাসটি কোন বারে আরম্ভ হয়েছে? _____