

প্রশ্নপত্র-2
ভাগ 'ক' - পঠন

মোট নম্বর - 50






1. নীচের শব্দগুলোর মধ্যে 'শ' এবং 'ত' অক্ষরগুলোকে বৃত্তের মাধ্যমে চিহ্নিত করুন।

$1 \times 6 = 6$

(শ)	শিক্ষা	দশম	রমেশ
(ত)	তরল	চতুর	জনতা

2. শব্দগুলোকে সঠিক ছবির সঙ্গে মেলান -

$1 \times 5 = 5$

(ক)	জাপি	
(খ)	সেতু	
(গ)	চালতা	
(ঘ)	কলম	
(ঙ)	কাঁঠাল	

3. 'ক' অংশের বাক্যাংশের সঙ্গে 'খ' অংশের সঠিক বাক্যাংশ মেলান -

$2 \times 5 = 10$

'ক' অংশ	'খ' অংশ
(ক) সত্যের	দৈ তৈরী করা হয়।
(খ) সর্বদা সময়মতো	প্রাণীর প্রাণ।
(গ) জলই	শিক্ষাই অমূল্য সম্পদ।
(ঘ) দুধ থেকে	সদাই জয় হয়।
(ঙ) মানুষের জীবনের	কাজ করতে হয়।

4. নীচের ছবিটি ভালোকরে মন দিয়ে দেখুন। ছবিতে থাকা যেকোনো চারটি বস্তুর নামকে বৃত্তের মাধ্যমে চিহ্নিত করুন-

$$2 \times 4 = 8$$



খেলার মাঠ ছাত্র-ছাত্রী ফুটবল শ্রেণীকোঠা বিদ্যালয় নদী

5. পোষ্টারটি ভালোকরে পড়ুন। নীচে দেওয়া শুদ্ধ বাক্যে (✓) এবং অশুদ্ধ বাক্যে (×) চিহ্ন দিন-

$$3 \times 3 = 9$$

প্রকৃতিকে বাঁচান, পৃথিবীকে বাঁচান।



যেভাবে খুশী গাছ কাটবেন না।



গাছ থাকলেই মানুষ থাকবে।



পরিবেশ প্রদূষণের দৃশ্য।



ডাষ্টবিনের দৃশ্য।

(ক) যেভাবে খুশী কাছ কাটতে হয়।

(খ) নোংরা আবর্জনা ডাষ্টবিনে ফেলতে হয়।

(গ) গাছ থাকলেই মানুষ থাকবে।

6. গদ্যাংশটি পড়ে শুদ্ধ বাক্যে (✓) এবং অশুদ্ধ বাক্যে (×) চিহ্ন দিন - $2 \times 6 = 12$

আমাদের রাজ্যের নাম অসম। অসমের রাজধানী দিসপুৰ। অসমে মোট ৩৫ টি জেলা আছে। এই রাজ্যের দুটি প্রধান নদ-নদীর নাম হল ব্ৰহ্মপুত্ৰ এবং বৰাক। অসমের প্ৰাচীন নাম ছিলো কামৰূপ এবং তার রাজধানীর নাম ছিলো প্ৰাগ্জ্যোতিষপুৰ। কপৌফুলকে অসমের জাতীয় ফুল হিসেবে গণ্য করা হয়। অসমের জাতীয় পশু হিসেবে এক শূঙ্গের গণ্ডার ও জাতীয় পাখী হিসেবে বাদিহাঁসকে গণ্য করা হয়।

(ক) আমাদের রাজ্যটির নাম অসম।

(খ) আসামের মোট জেলার সংখ্য 32।

(গ) আসামের রাজধানীর নাম রামপুৰ।

(ঘ) প্ৰাচীন অসম রাজ্যের নাম ছিলো কামৰূপ।

(ঙ) পদ্মফুলকে অসমের জাতীয় ফুল হিসেবে জানা যায়।

(চ) অসমের জাতীয় পাখী হলো বাদিহাঁস।

ভাগ 'খ' - লিখন

মোট নম্বর - 50

1. নিম্নলিখিত অক্ষরগুলোর দ্বারা একটি করে শব্দ গঠন করে লিখুন -

$2 \times 3 = 6$

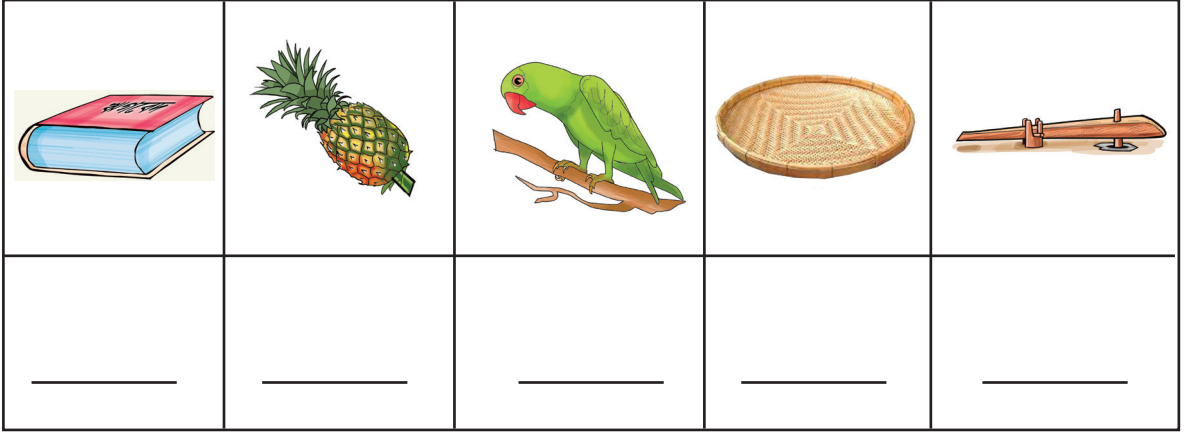
ব

ক্ষ.....

ত.....

2. ছবি দেখে নাম লিখুন -

$2 \times 5 = 10$



3. সঠিক শব্দ বেছে নিয়ে বাক্য সম্পূর্ণ করুন -

$2 \times 4 = 8$

ভোটাধিকার পরিষ্কার উপকারী শিক্ষা

(ক) সকালবেলা পায়ে হাঁটা শরীরের জন্য

(খ) ভারতীয় নাগরিক ১৮ বছর বয়সে লাভ করে।

(গ) আমাদের চারপাশ সবসময়.....করে রাখতে হয়।

(ঘ)আমাদের জীবনের অমূল্য সম্পদ।

4. নিম্নলিখিত শব্দ দ্বারা বাক্য রচনা করুন -

$3 \times 3 = 9$

বিদ্যালয় _____

লাঙল _____

বাজার _____

5. আপনার জায়গার নাম এবং জেলাটির নাম লিখুন-

1 × 2 = 2

6. নীচের ছবিটি দেখে তার সম্বন্ধে পাঁচটি বাক্য লিখুন-

3 × 5 = 15



(ক) _____

(খ) _____

(গ) _____

(ঘ) _____

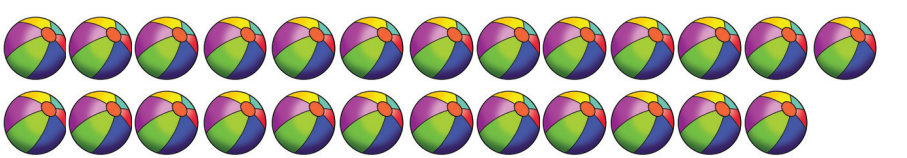



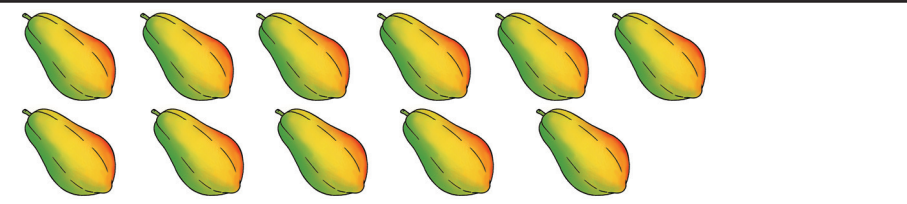

(ঙ) _____

ভাগ 'গ' - সংখ্যাজ্ঞান

মোট নম্বর - 50

1. গণনা করে মেলান -

$1 \times 6 = 6$

	7
	16
	15
	25
	9
	11

2. সঠিক সংখ্যার দ্বারা শূণ্যস্থান পূর্ণ করুন -

$1 \times 5 = 5$

(ক)	10	—	30	40
(খ)	5	10	—	20
(গ)	—	14	21	28
(ঘ)	3	6	9	—
(ঙ)	2	—	6	8

3. বাঁদিকে থাকা ছবিটির রং করা অংশের সঙ্গে ডানদিকে থাকা ভগ্নাংশগুলোকে মেলান -

$$1 \times 3 = 3$$

	$\frac{1}{2}$
	$\frac{2}{4}$
	$\frac{2}{3}$

4. সমাধান করুন -

$$2 \times 4 = 8$$

(ক)
$$\begin{array}{r} 22 \\ + 21 \\ \hline \end{array}$$

(খ)
$$\begin{array}{r} 55 \\ - 41 \\ \hline \end{array}$$

(গ)
$$\begin{array}{r} 60 \\ \times 4 \\ \hline \end{array}$$

(ঘ)
$$3 \overline{)96}$$

5. (ক) একজন মানুষের দুটো কান থাকে। তাহলে 10 জন মানুষের মোট কতগুলো কান হবে?

$$1 \times 4 = 4$$

(খ) রেলস্টেশনে বিপুল দাঁড়িয়ে ছিলো। রেলগাড়ীটি 15 মিনিট দেরীতে ছাড়লো এবং

9.50 AM এ রওয়ানা হলো। তাহলে সময়মতো রওয়ানা হওয়ার জন্যে রেলটির কয়টার সময় ছাড়া উচিত ছিলো?

$$1 \times 4 = 4$$

6. নীচের 12 ঘন্টার ঘড়ির সময়কে 24 ঘন্টার সময়ে পরিবর্তন করুন - $2 \times 4 = 8$


ক) 5 . 38 PM =

খ) 9 . 53 PM =

গ) 11 . 21 PM =

ঘ) 2 . 31 PM =

7. ঘড়ি দেখে সময় লিখুন - $2 \times 4 = 8$



..... বেজে.....মিনিট



.....বেজে.....মিনিট

8. ক্যালেন্ডার দেখে নীচের প্রশ্নগুলোর উত্তর লিখুন - $1 \times 4 = 4$

জুলাই

সোম	মঙ্গল	বুধ	বৃহস্পতি	শুক্র	শনি	রবি
	1	2	3	4	5	6
7	8	9	10	11	12	13
14	15	16	17	18	19	20
21	22	23	24	25	26	27
28	29	30	31			

(ক) জুলাই মাসে _____ দিন থাকে।

(খ) জুলাই মাসে মোট কয়টি বৃহস্পতিবার আছে? _____

(গ) 25 জুলাই কি বারে পড়েছে? _____

(ঘ) জুলাই মাসটি কি বারে আরম্ভ হয়েছে? _____