

প্রশ্ন পত্র - 3
ভাগ 'ক'- পঠন

মোট নম্বর — 50

1. নীচের শব্দগুলোর 'থ' এবং 'ম' অক্ষরকে বৃত্তের মাধ্যমে চিহ্নিত করুন—

1x6=6

⊙ থ

থামা

কথন

কথা

⊙ ম

মাকড়সা

কমলা

খড়ম


2. 'ক' অংশের সঙ্গে 'খ' অংশ মেলান—

1x5=5

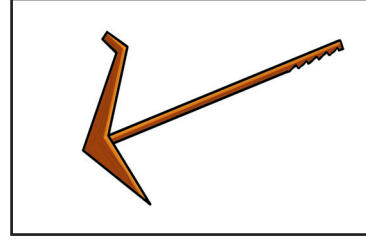
'ক' অংশ

'খ' অংশ

ঘর




আম




ছাগল



লাঙল




মাছ



3. 'ক' অংশের বাক্যাংশের সঙ্গে 'খ' অংশের সঠিক বাক্যাংশকে মেলান — $2 \times 5 = 10$

'ক' অংশ	'খ' অংশ
থর ভারতের একটি	মশারীর ব্যবহার করুন।
হকি ভারতের	আমাদের অধিকার।
কাজিরাঙা	বিশাল মরুভূমি।
মশা থেকে বাঁচার জন্য	এক শিঙের গণ্ডারের জন্য বিখ্যাত।
ভোটদান	জাতীয় খেলা।

4. নীচের ছবিটি ভালকরে লক্ষ্য করুন। ছবিতে থাকা যেকোনো তিনটি জিনিসের নামকে বৃত্তের মাধ্যমে চিহ্নিত করুন — $2 \times 3 = 6$



শিক্ষক

ছাত্র

রাঁধুনী

সাইকেল

টেবিল

বই

5. পোষ্টারটি ভালকরে পড়ুন । নীচে উল্লেখিত শুদ্ধ বাক্যে (✓) এবং অশুদ্ধ বাক্যে (✗) চিহ্ন দিন — 5x2=10



- ক) ফল-মূল এবং শাক-সব্জী খাওয়ার আগে ভালোকরে ধুতে হয় না।
- খ) খাওয়ার আগে ভালকরে হাত ধুতে হয়।
- গ) মাটিতে পড়ে থাকা খাবার খাবে না।
- ঘ) খাবার ও জল ঢেকে রাখবেন না।


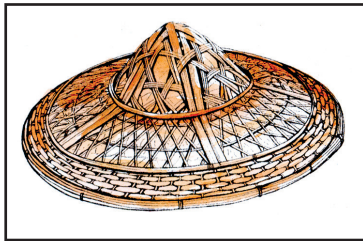

6. নীচের অংশটি পড়ে শুদ্ধ বাক্যে (✓) চিহ্ন এবং অশুদ্ধ বাক্যে (✗) চিহ্ন দিন — $2 \times 5 = 10$

পৃথিবীতে অনেক প্রাণী আছে। তার মধ্যে কিছু প্রাণী গৃহপালিত। কিছু প্রাণী বন্য। গরু একপ্রকারের গৃহপালিত প্রাণী। তাদের প্রধান খাদ্য ঘাস। বাঘকে ব্যাঘ্র বলে। এটি বন্য প্রাণী। হরিণ বন্য প্রাণী হলেও নম্র।

- ক) গরু একপ্রকার গৃহপালিত প্রাণী।
- খ) ঘাস বাঘের প্রধান খাদ্য।
- গ) বাঘকে ব্যাঘ্র বলে।
- ঘ) হরিণ একপ্রকারের উগ্র প্রাণী।
- ঙ) পৃথিবীতে শুধুমাত্র বন্য প্রাণীই আছে।

7. 'ক' অংশের ছবি দেখে 'খ' অংশের সঠিক বর্ণের সাথে মেলান — $1 \times 3 = 3$

'ক' অংশ



'খ' অংশ

জ

দ

হ

ভাগ 'খ'- লিখন

মোট নম্বর — 50

1. নিম্নলিখিত অক্ষরগুলোর দ্বারা দুটো করে শব্দ গঠন করে লিখুন— $2 \times 3 = 6$


ক) শ ঃ _____


খ) চ ঃ _____

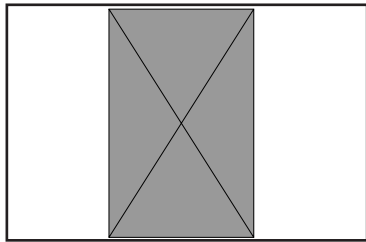
গ) প ঃ _____


2. ছবি দেখে নাম লিখুন —


$2 \times 5 = 10$











3. সঠিক শব্দ বেছে নিয়ে নীচের শূণ্যস্থান সম্পূর্ণ করুন—

2x4=8

মহাপরুষ	সখায়	ধৈর্য	বিদ্বান
---------	-------	-------	---------

ক) শ্রীমন্ত শঙ্করদেব একজন _____ ।

খ) _____ মানুষ সর্বত্র সম্মানিত হয় ।

গ) _____ ধরা ভালো অভ্যাস ।

ঘ) বিপদে _____ করা উচিত ।

4. নিম্নলিখিত শব্দগুলো দ্বারা বাক্য গঠন করুন —

3x3=9

পরিবেশ ঃ _____

বাজার ঃ _____

টোল ঃ _____

5. আপনার নিজের সম্বন্ধে দুইটি বাক্য লিখুন —

1x2=2

ক) _____

খ) _____

6. নীচের ছবিটি দেখে তার বিষয়ে পাঁচটি বাক্য লিখুন —

3x5=15



ক) _____

খ) _____

গ) _____

ঘ) _____

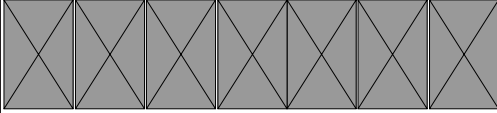





ঙ) _____

ভাগ 'গ' - সংখ্যা জ্ঞান

মোট নম্বর- 50

1. গণনা করে মেলান —

$$1 \times 6 = 6$$

	6
	15
	13
	12
	7
	18

2. সঠিক সংখ্যার দ্বারা শূন্যস্থান পূর্ণ করুন —

$$1 \times 5 = 5$$

- ক) 110, _____, 130, 140
 খ) 33 _____, 35, 36
 গ) 15, 18, _____, 24
 ঘ) 48, 47, _____, 45
 ঙ) 20, 22, _____, 26

3. নীচের ছবিগুলো থেকে জিনিষগুলোর মূল্য সঠিক নোটের সঙ্গে মেলায় —
 $1 \times 3 = 3$

 ₹ 240/-	
 ₹ 600/-	
 ₹ 750/-	

4. সমাধান করুন — $2 \times 4 = 8$

ক)
$$\begin{array}{r} 7 \overline{)56} \end{array}$$

খ)
$$\begin{array}{r} 88 \\ - 61 \\ \hline \end{array}$$

গ)
$$\begin{array}{r} 33 \\ + 42 \\ \hline \end{array}$$

ঘ)
$$\begin{array}{r} 61 \\ \times 6 \\ \hline \end{array}$$

5. ক) মীনা 122 টাকার শাক-সজী এবং 131 টাকার ফল কিনলো। মীনা দোকানে মোট কত টাকা দিলো? $1 \times 4 = 4$

খ) প্রতি ব্যাগে 6 কিলোগ্রাম করে আটা ভরা হলে, 66 কিলোগ্রাম আটা ভরতে মোট কয়টি ব্যাগের প্রয়োজন হবে? $1 \times 4 = 4$

6. শূন্যস্থান পূর্ণ করুন—

2x4=8

ক) 600 সেন্টিমিটার = _____ মিটার।


খ) 5 কিলোমিটার = _____ মিটার।

গ) 4 পোয়া = _____ গ্রাম।

ঘ) 4000 গ্রাম = _____ কিলোগ্রাম।

7. ঘড়ি দেখে সময় লিখুন —

2x4=8



8. ক্যালেন্ডার দেখে নীচের প্রশ্নগুলোর উত্তর লিখুন —

2x4=8

ফেব্রুয়ারি 2025						
রবিবার	সোমবার	মঙ্গলবার	বুধবার	বৃহস্পতিবার	শুক্রবার	শনিবার
						1
2	3	4	5	6	7	8
9	10	11	12	13	14	15
16	17	18	19	20	21	22
23	24	25	26	27	28	

ক) ফেব্রুয়ারি মাসে কয় দিন আছে? _____

খ) এই মাসে মোট কয়টি সোমবার আছে? _____

গ) এই মাস কোন বারে শেষ হয়েছে? _____

ঘ) 25 তারিখ কি বার? _____