

## भाग क - पढ़ना

कुल अंक - 50

1. दिए गए शब्दों में 'म' और 'ल' अक्षर पर घेरा लगाइए-  $1 \times 6 = 6$

म

मकान

कमरा

काम

ल

लहसुन

गलना

रूमाल

2. शब्दों को चित्रों से मिलाइए-

$1 \times 5 = 5$

(क)

पटरी



(ख)

कमल



(ग)

खाट



(घ)

नारियल



(ङ)

तवा



3. चित्र में दिखाई गई चीज़ों के नाम पर घेरा लगाइए—  $2 \times 4 = 8$



बाल्टी  
महिला

नल  
फूल

कुआँ  
लड़का

4. वाक्य के दो सही भागों को लाइन खींचकर मिलाइए—

$2 \times 5 = 10$

(क) खेतों में बीज बोने  
से पहले

रक्तचाप बिमारी होने का डर  
रहता है।

(ख) रसोई में

मधुमेह बिमारी होने का डर  
रहता है।

(ग) ज़्यादा मीठा खाने से

भूमि तैयार करनी चाहिए।

(घ) नमक ज़्यादा खाने से

फल और औषधियाँ भी  
मिलती हैं।

(ङ) पेड़ों से हमें

उपयोग होने वाले बर्तन को  
साफ़ रखें।

5. पोस्टर को देखिए। उसके बारे में दी गई सही बातों के सामने (✓) और गलत बातों के बारे में (×) का निशान लगाइए—

3 × 3 = 9



- (क) अपनी भलाई कोविड अनुरूप व्यवहारों को अपनाने में है। ( )
- (ख) कोरोना से बचने के लिए मास्क पहनना चाहिए। ( )
- (ग) यह पोस्टर कोरोना से बचाव के बारे में है। ( )

6. गद्यांश पढ़कर सही (✓) और गलत (×) का निशान लगाइए—

$$2 \times 6 = 12$$

सोनपुर गाँव में रोहन और उसका परिवार सहकुशल रहता था। रोहन ने अपने दोस्तों के साथ मिलकर गाँव में पेड़ को कटने से बचाने के लिए मुहिम चलाई। उन्होंने पेड़ों के आस-पास छोटे-छोटे बगीचे बनाने शुरू किए। वहाँ बच्चों के खेलने और बड़ों के घूमने की सुविधा शुरू की। इससे उनके गाँव का गौरव बढ़ा और लोगों में अपनापन बढ़ा। गाँव में सब अब और खुशहाली से जीवन व्यतीत करने लगे।

- (क) रोहन सोनपुर गाँव में रहता था। ( )
- (ख) रोहन और उसके दोस्तों ने गाँव में पेड़ को कटने से बचाने के लिए मुहिम चलाई। ( )
- (ग) पेड़ों के आस-पास खेलने और घूमने की सुविधा बनाई गई। ( )
- (घ) गाँव के लोगों में अपनापन बढ़ गया। ( )
- (ङ) अब गाँव में सब और खुशहाली से जीवन व्यतीत करने लगे। ( )
- (च) बगीचे से लोगों में अपनापन कम हुआ। ( )

# भाग ख - लिखना

कुल अंक - 50

1. दिए गए अक्षरों से एक-एक शब्द बनाइए-

$2 \times 3 = 6$

च .....

व .....

ट .....

2. चित्र देखकर उनके नाम लिखिए-

$2 \times 5 = 10$



.....



.....



.....



.....



.....

3. सही शब्द चुनकर वाक्य पूरे कीजिए-

2 × 4 = 8

फायदेमंद, ठहलना, जागरूक, स्वस्थ

(क) दूध सेहत के लिए \_\_\_\_\_ है।

(ख) रोज सुबह \_\_\_\_\_ सेहत के लिए अच्छा होता है।

(ग) फल और हरी सब्जियाँ खाएँ और \_\_\_\_\_ रहें।

(घ) समाचार पढ़ने से व्यक्ति \_\_\_\_\_ रहता है।

4. दिए गए शब्दों से वाक्य बनाकर लिखिए-

3 × 3 = 9

(क) मौसम - .....

(ख) सिलाई - .....

(ग) किनारा - .....

5. बीमार पड़ने पर आप क्या करेंगे। किन्हीं दो गतिविधियों को लिखिए-

1 × 2 = 2

(क) .....

(ख) .....

6. दिए गए चित्र को देखकर उसके बारे में पाँच वाक्य लिखिए—

3 × 5 = 15



(क) .....

(ख) .....

(ग) .....

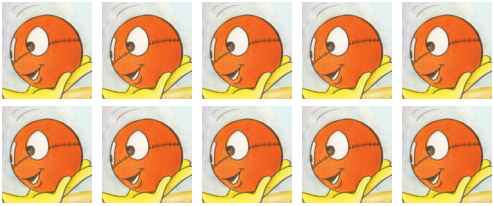


(घ) .....

(ङ) .....

# भाग ग – गणित

कुल अंक – 50

1. वस्तुओं को गिनकर उनकी सही संख्या से मिलाइए–  $1 \times 6 = 6$

	5
	20
	10
	15
	18
	25

2. क्रम पूरा कीजिए-

$1 \times 5 = 5$

(क) 6, \_\_\_\_\_, 8, 9

(ख) 21, 31, \_\_\_\_\_, 51







(ग) 50, 60, 70, \_\_\_\_\_

(घ) 70, 60, \_\_\_\_\_, 40

(ङ) 60, \_\_\_\_\_, 40, 30

3. नीचे दिए गए सामान के मूल्य को सही नोटों से मिलाइए-

$1 \times 3 = 3$

 <p>₹ 310</p>	
 <p>₹ 160</p>	
 <p>₹ 240</p>	

4. सवाल हल कीजिए—  $2 \times 4 = 8$

(क)  $154$  (ख)  $119$  (ग)  $12$  (घ)  $5 \overline{)35}$   
 $+ 139$   $- 112$   $\times 2$   
\_\_\_\_\_

5. (क) गुरू ने सोमवार को 54 केले ₹ 108 रुपये में लिए और मंगलवार को उतने ही केले ₹ 162 रुपये में लिए। बताइए कि गुरू को केले मंगलवार को कितने मंहगे मिले।  $1 \times 4 = 4$

(ख) बाज़ार में 2 लीटर तेल का डिब्बा मिलता है। 10 लीटर तेल के लिए ऐसे कितने डिब्बे खरीदने होंगे?  $1 \times 4 = 4$

6. खाली स्थान भरिए—  $2 \times 4 = 8$

(क) 1500 मिली. = \_\_\_\_\_ लीटर  
(ख) 72 केले = \_\_\_\_\_ दर्जना  
(ग) 5 किलोग्राम में = \_\_\_\_\_ ग्राम।  
(घ) 300 मिनट में = \_\_\_\_\_ घण्टे।

7. (क) नीचे दी गई घड़ियों में दर्शाए गए समय को लिखिए—

$$2 \times 4 = 8$$



06:20

\_\_\_ बजकर \_\_\_ मिनट

\_\_\_ बजकर \_\_\_ मिनट

(ख) नीचे दिए गए कैलेंडर को देखकर प्रश्नों के उत्तर दीजिए—

$$1 \times 4 = 4$$

जनवरी 2023					
रविवार	30	2	9	16	23
सोमवार	31	3	10	17	24
मंगलवार		4	11	18	25
बुधवार		5	12	19	26
गुरुवार		6	13	20	27
शुक्रवार		7	14	21	28
शनिवार	1	8	15	22	29

(क) इस महीने का अंतिम दिन कौन-सा है? \_\_\_\_\_

(ख) इस महीने के दूसरे शुक्रवार को कौन-सी तारीख है? \_\_\_\_\_

(ग) 19 तारीख को कौन-सा दिन है? \_\_\_\_\_

(घ) इस महीने में कितने रविवार हैं? \_\_\_\_\_