

भाग क- पढ़ना

कुल अंक – 50

1. दिए गए शब्दों में 'ख' और 'स' अक्षर पर घेरा लगाइए–

1 × 6 = 6

ख

खरबूजा

लिखना

परख

स

सरकार

रसना

पास

2. शब्दों को उनके चित्रों से मिलाइए–

1 × 5 = 5

(क)

घड़ी



(ख)

छाता




(ग)

दरवाज़ा



(घ)

नल



(ङ)

छलनी



3. चित्र में दिखाई गई चीज़ों के नाम पर घेरा लगाइए—

2 × 4 = 8



डॉक्टर

मरीज़

खिड़की

चश्मा

एम्बुलेंस

आला

4. वाक्य के दो सही भागों को लाइन खींचकर मिलाइए—

2 × 5 = 10

(क) सड़क के नियमों का

खेलने के साथ पढ़ने दें।

(ख) दाल भिगोकर बनाने से

मिट्टी बहा कर ले जाता है।

(ग) पानी तेज़ी से आता है तो

गैस बंद कर दें।

(घ) खाना बनते ही

वह जल्दी पकती है।

(ङ) बच्चों को

पालन करें।

5. पोस्टर को देखिए। उसके बारे में दी गई सही बातों के सामने (✓) और गलत बातों के बारे में (×) का निशान लगाइए— $3 \times 3 = 9$



- (क) कार्ड सुरक्षित ढंग से इस्तेमाल करें। ()
- (ख) जानकार बनिए सतर्क रहिए। ()
- (ग) यह पोस्टर पोस्ट भेजने के बारे में है। ()

6. गद्यांश पढ़कर सही (✓) और गलत (×) का निशान लगाइए-

$$2 \times 6 = 12$$

मकान बनाने के लिए अलग-अलग तरह के काम करने वाले लोग चाहिए। इनके काम के अनुसार इनको नाम दिया जाता है। लकड़ी का सामान बनाने वाले को बढ़ई कहते हैं। पाइपलाइन फिटिंग प्लंबर करता है। राज मिस्त्री चिनाई का काम करता है।

- (क) मकान बनाने के लिए बढ़ई चाहिए। ()
- (ख) मकान में अलग-अलग तरह का काम है। ()
- (ग) लकड़ी का सामान बनाने में वाले को लुहार कहते हैं। ()
- (घ) मकान में पाइपलाइन लगाने की ज़रूरत होती है। ()
- (ङ) राज मिस्त्री चिनाई का काम करता है। ()
- (च) बढ़ई प्लंबर पाइपलाइन फिटिंग का कार्य करता है। ()

भाग ख - लिखना

कुल अंक - 50

1. गए अक्षरों से एक-एक शब्द बनाइए-

$2 \times 3 = 6$

प

ह


स

2. चित्र देखकर उनके नाम लिखिए-

$2 \times 5 = 10$



.....



.....



.....



.....



.....

3. सही शब्द चुनकर वाक्य पूरे कीजिए—

2 × 4 = 8

साबुन, प्रदूषण, हथकड़ी, आविष्कार

- (क) आवश्यकता ही _____ की जननी है।
(ख) खाना खाने से पहले हमें _____ से हाथ धोने चाहिए।
(ग) वृक्षों के बिना _____ बढ़ सकता है।
(घ) पुलिस चोर को _____ पहना कर कोर्ट ले गई।

4. दिए गए शब्दों से वाक्य बनाकर लिखिए—

3 × 3 = 9

- (क) पौधे
(ख) पसंद
(ग) सेहत

5. अपने परिवार के किन्हीं दो व्यक्ति का नाम लिखिए—

1 × 2 = 2

- (क)
(ख)

6. नीचे दिए गए चित्र को देखकर उसके बारे में पाँच वाक्य लिखिए— 3
× 5 = 15



(क)

(ख)

(ग)

(घ)

(ङ)

भाग ग – गणित

कुल अंक – 50

1. वस्तुओं को गिनकर उनकी सही संख्या से मिलान कीजिए–

$$1 \times 6 = 6$$

	10
	12
	18
	17
	20
	21

2. क्रम पूरा कीजिए-

$$1 \times 5 = 5$$

(क) 26, 27, _____, 29

(ख) 32, 34, _____, 38





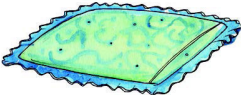

(ग) 47, _____, 45, 44

(घ) 70, 75, _____, 85

(ङ) _____, 14, 17, 20

3. नीचे दिए गए सामान के मूल्य को सही नोटों से मिलाइए-

$$1 \times 3 = 3$$

 <p>₹ 120</p>	
 <p>₹ 310</p>	
 <p>₹ 130</p>	

4. सवाल हल कीजिए—

$2 \times 4 = 8$

(क)	75	(ख)	92	(ग)	18	(घ)	$4\overline{)36}$
	+ 24		- 30		$\times 5$		
	<hr/>		<hr/>		<hr/>		
	<hr/>		<hr/>		<hr/>		

5. (क) हरि ने पहले दिन 130 तथा दूसरे दिन 237 डिब्बे पैक किए। हरि ने दोनों दिन कुल कितने डिब्बे पैक किए? $1 \times 4 = 4$

(ख) ₹ 820 को 4 कारीगरों में बराबर बाँटा जाना है। प्रत्येक कारीगरों को कितने रुपए मिलेंगे? $1 \times 4 = 4$

6. खाली स्थान भरिए—

$2 \times 4 = 8$

(क)	300 सेंटीमीटर	=	<hr/>	मीटर
(ख)	4 किलोग्राम	=	<hr/>	ग्राम
(ग)	3 दर्जन केले	=	<hr/>	केले
(घ)	4000 ग्राम	=	<hr/>	किलोग्राम

7. (क) नीचे दी गई घड़ियों में दर्शाए गए समय को लिखिए—

$$2 \times 4 = 8$$



16:50

___ बजकर ___ मिनट

___ बजकर ___ मिनट

(ख) नीचे दिए गए कैलेंडर को देखकर प्रश्नों के उत्तर दीजिए—

$$1 \times 4 = 4$$

अप्रैल 2023					
रविवार		3	10	17	24
सोमवार		4	11	18	25
मंगलवार		5	12	19	26
बुधवार		6	13	20	27
गुरुवार		7	14	21	28
शुक्रवार	1	8	15	22	29
शनिवार	2	9	16	23	30

(क) इस माह में कुल कितने दिन हैं?

(ख) इस महीने का पहला दिन कौन-सा है?

(ग) 16 अप्रैल को कौन-सा दिन है?

(घ) चौथे मंगलवार को कौन-सी तारीख है?
