

भाग क - पढ़ना

कुल अंक - 50

1. दिए गए शब्दों में 'म' और 'ज' अक्षर पर घेरा लगाइए-

1 × 6 = 6



मकड़ी

चमकीला

नरम



जनता

रजत

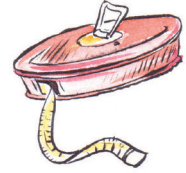
महाराज

2. शब्दों को चित्रों से मिलाइए-

1 × 5 = 5

(क)

टिड्डा




(ख)

ईंट




(ग)

फीता



(घ)

भैंस



(ङ)

घंटी



3. चित्र में दिखाई गई चीज़ों के नाम पर घेरा लगाइए— $2 \times 4 = 8$



मटके
बर्तन

महिला
चादर

ग्राहक
पानी

4. वाक्य के दो सही भागों को लाइन खींचकर मिलाइए—

$2 \times 5 = 10$

(क) खेतों में बरसात के बाद

कैल्सियम मिलता है।

(ख) ज़्यादा पानी पीना

फ़सल बढ़ जाती है।

(ग) पानी को

कसरत करना एक अच्छी
आदत है।

(घ) सुबह जल्दी उठकर

व्यर्थ न करें।

(ङ) दूध से हमें

सेहत के लिए फायदेमंद है।

5. पोस्टर को देखिए। उसके बारे में दी गई सही बातों के सामने (✓) और गलत बातों के बारे में (×) का निशान लगाइए— $3 \times 3 = 9$



- (क) यह पोस्टर पैसों के लेन-देन से जुड़ा है। ()
- (ख) वित्तीय लेन-देन के लिए सार्वजनिक कंप्यूटर का प्रयोग करें। ()
- (ग) ऑनलाइन खरीददारी में कोई जोखिम नहीं है। ()

6. गद्यांश पढ़कर सही (✓) और गलत (×) का निशान लगाइए—

2 × 6 = 12

प्रिय बहन,

नमस्ते। आप कैसी हैं? मुझे आशा है कि आप स्वस्थ और खुशहाल होंगी। मैंने सुना है कि आपकी कुछ दिनों से तबीयत ठीक नहीं है। अब बताइए कि आपकी तबीयत कैसी है। मैं आपकी जल्दी से ठीक होने की प्रार्थना करता हूँ।

आपका प्यारा भाई,
शिव

- | | |
|---|-----|
| (क) पत्र एक भाई ने लिखा है। | () |
| (ख) बहन ने बताया है कि वह बीमार है। | () |
| (ग) बहन ने सुना है कि भाई बीमार है। | () |
| (घ) भाई ने बहन से हालचाल पूछा है। | () |
| (ङ) भाई को बहन की चिंता है। | () |
| (च) पत्र में बहन के ठीक होने की प्रार्थना की गई है। | () |

भाग ख - लिखना

कुल अंक - 50


1. दिए गए अक्षरों से एक-एक शब्द बनाकर लिखिए- $2 \times 3 = 6$

थ


ला

मा

2. चित्र देखकर उनके नाम लिखिए- $2 \times 5 = 10$



.....



.....



.....



.....



.....

3. सही शब्द चुनकर वाक्य पूरे कीजिए—

2 × 4 = 8

शिकायत,	सुइयाँ,	पेड़-पौधे,	छड़ी
---------	---------	------------	------

(क) एफ.आई.आर. में ————— दर्ज कराने वाले का नाम और पता लिखा होता है।

(ख) घड़ी में तीन ————— होती हैं।

(ग) घर के आस-पास ————— लगाने चाहिए।

(घ) बाबा ————— की मदद से चलते हैं।

4. दिए गए शब्दों से वाक्य बनाकर लिखिए—

3 × 3 = 9

(क) गागर -

(क) स्त्री -

(क) देश -

5. वर्ष के किन्हीं दो महीनों के नाम लिखिए—

1 × 2 = 2

(क)

(ख)

6. दिए गए चित्र को देखकर उसके बारे में पाँच वाक्य लिखिए –

3 × 5 = 15



- (क)
- (ख)
- (ग)
- (घ)
- (ङ)

भाग – ग गणित

कुल अंक – 50

1. वस्तुओं को गिनकर उनकी सही संख्या से मिलाइए– $1 \times 6 = 6$

	9
	10
	16
	8
	12
	5

2. क्रम पूरा कीजिए-

$1 \times 5 = 5$

(क) 16, 20, _____, 28, 32

(ख) 111, 112, _____, 114, 115







(ग) 120, 140, _____, 180, 200

(घ) 15, 20, _____, 30, 35

(ङ) 109, 111, _____, 115, 117

3. नीचे दिए गए सामान के मूल्य को सही नोटों से मिलाइए-

$1 \times 3 = 3$

 <p>₹ 210</p>	
 <p>₹ 190</p>	
 <p>₹ 115</p>	

4. सवाल हल कीजिए -

$2 \times 4 = 8$

(क)
$$\begin{array}{r} 55 \\ + 38 \\ \hline \hline \end{array}$$
 (ख)
$$\begin{array}{r} 57 \\ - 29 \\ \hline \hline \end{array}$$
 (ग)
$$\begin{array}{r} 13 \\ \times 4 \\ \hline \hline \end{array}$$
 (घ)
$$3 \overline{)27}$$

5. (क) सोनू ने ₹ 315 का तौलिया और ₹ 277 का साबुन खरीदा।
सोनू ने दुकानदार को कुल कितने रुपए दिए? $1 \times 4 = 4$

(ख) एक पैकेट में 4 बल्ब आते हैं। 36 बल्बों को कितने पैकेटों में
रखा जा सकता है ? $1 \times 4 = 4$

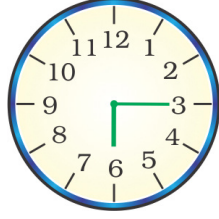
6. खाली स्थान भरिए -

$2 \times 4 = 8$

(क) 10 मिनट = _____ सेकेंड
(ख) 1 सप्ताह = _____ दिन
(ग) 1 दिन = _____ घंटे
(घ) 4 किलोमीटर = _____ मीटर

7. (क) नीचे दी गई घड़ियों में दर्शाए गए समय को लिखिए -

$$2 \times 4 = 8$$



19:40

___ बजकर ___ मिनट

___ बजकर ___ मिनट

(ख) नीचे दिए गए कैलेंडर को देखकर प्रश्नों के उत्तर दीजिए -

$$1 \times 4 = 4$$

अप्रैल 2023					
रविवार		4	11	18	25
सोमवार		5	12	19	26
मंगलवार		6	13	20	27
बुधवार		7	14	21	28
गुरुवार	1	8	15	22	29
शुक्रवार	2	9	16	23	30
शनिवार	3	10	17	24	

(क) इस महीने में कुल कितने दिन हैं? _____

(ख) इस महीने में कुल कितने रविवार हैं? _____

(ग) तीसरे मंगलवार को कौन-सी तारीख है? _____

(घ) 1 अप्रैल को कौन-सा दिन है? _____