

भाग क - पढ़ना

कुल अंक - 50

1. दिए गए शब्दों में 'ठ' और 'ह' अक्षर पर घेरा लगाइए-

1 × 6 = 6



ठठेरा

गठरी

जेठ



हवा

गहरा

माह

2. शब्दों को उनके चित्रों से मिलाइए-

1 × 5 = 5

(ख) साइकिल



(ग) घोंसला



(घ) टोकरी



(ङ) आदमी



(च) बस



3. चित्र में दिखाई गई किन्हीं चार चीज़ों के नाम पर घेरा लगाइए—

$$2 \times 4 = 8$$



औरत
बच्चे

रोटी
मटका

बाल्टी
झूला

4. वाक्य के दो सही भागों को लाइन खींचकर मिलाइए—

$$2 \times 5 = 10$$

(क) जो बीत गई

ब्याज़ मिलता है।

(ख) पेड़ लगाने से वातावरण

सो बात गई।

(ग) बैंक में जमा पैसों पर

साफ़-सुथरा रहता है।

(घ) घबराओ मत सब

कोई फैसला करिए।

(ङ) ठीक से सोच- समझकर

ठीक हो जाएगा।

5. पोस्टर को देखिए। उसके बारे में दी गई सही बातों के सामने (✓) और गलत बातों के बारे में (×) का निशान लगाइए—

$$3 \times 3 = 9$$



खाना बनाने, खाने व खिलाने से पहले व शौच के बाद हाथ साबुन से अवश्य धोएं।



- (क) खाना बनाने व खाने से पहले हाथ साबुन से धोएँ। ()
- (ख) खाना रखने या परोसने से पहले पॉलीथीन या अखबार का प्रयोग करें। ()
- (ग) स्वच्छता से खुद को कीटाणुओं से बचाएँ। ()

6. गद्यांश पढ़कर सही (✓) और गलत (×) का निशान लगाइए—

$$2 \times 6 = 12$$

महिपाल जामनगर गाँव में किसान है। वह खेती करता है। उसके पास काफ़ी ज़मीन है। उसके दो बच्चे हैं। एक बेटा और बेटी। दोनों पढ़ने जाते हैं। महिपाल केवल सातवीं तक पढ़ा है। वह चाहता है उसके बच्चे खूब पढ़ें। उसने उनकी पढ़ाई के लिए लोन लिया है। महिपाल और उसकी पत्नी दोनों खूब मेहनत करते हैं।

- (क) महिपाल जामनगर गाँव में किसान है। ()
- (ख) महिपाल के पास खूब गाड़ीयाँ हैं। ()
- (ग) महिपाल ने बच्चों की पढ़ाई के लिए लोन लिया है। ()
- (घ) बच्चे खेत में काम करते हैं। ()
- (ङ) महिपाल कभी पढ़ने नहीं गया। ()
- (च) महिपाल चाहता है बच्चे खूब पढ़ें। ()

भाग ख - लिखना

कुल अंक - 50

1. दिए गए अक्षरों से एक-एक शब्द बनाइए-

2 × 3 = 6

च

प

कि

2. चित्र देखकर उनके नाम लिखिए-

2 × 5 = 10




.....



.....



.....



.....



.....

3. सही शब्द चुनकर वाक्य पूरे कीजिए-

2 × 4 = 8

सेहत	सफलता	बीमारियों	ईमानदारी
------	-------	-----------	----------

- (क) फल खाएँ और _____ से बचें।
(ख) हमें अपना काम _____ से करना चाहिए।
(ग) मेहनत करने से _____ मिलती है।
(घ) ताजे फल _____ के लिए अच्छे होते हैं।

4. दिए गए शब्दों से वाक्य बनाकर लिखिए-

3 × 3 = 9

- (क) दुकान -
(ख) धूप -
(ग) अखबार -

5. लू से बचने के लिए आप क्या करेंगे? कोई दो बातें लिखिए-

1 × 2 = 2

- (क)
(ख)

6. नीचे दिए गए चित्र को देखकर उसके बारे में पाँच वाक्य लिखिए—

3 × 5 = 15



(क)

(ख)

(ग)

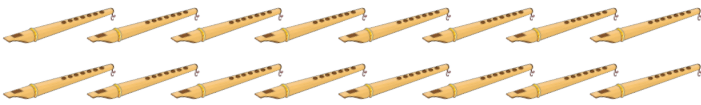
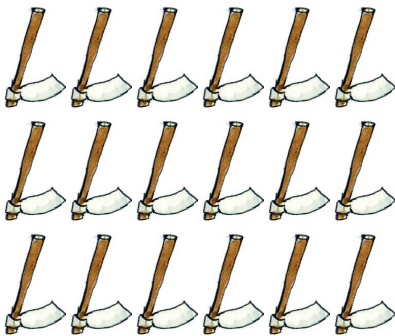




(घ)

(ङ)

भाग ग – गणित

कुल अंक – 50

1. वस्तुओं को गिनकर उनकी सही संख्या से मिलाइए– $1 \times 6 = 6$

	18
	15
	16
	10
	12
	6







2. क्रम पूरा कीजिए-

$1 \times 5 = 5$

- (क) 1, 5, _____, 13
 (ख) 6, _____, 10, 12
 (ग) 9, _____, 13, 15
 (घ) _____, 15, 18, 21
 (ङ) _____, 19, 21, 23

3. नीचे दिए गए सामान के मूल्य को सही नोटों से मिलाइए-

$1 \times 3 = 3$

 <p>₹1500</p>	
 <p>₹1200</p>	
 <p>₹220</p>	

4. सवाल हल कीजिए— $2 \times 4 = 8$

(क) 140 (ख) 420 (ग) 12 (घ) $12 \overline{)36}$
 $+ 260$ $- 210$ $\times 7$


5. (क) एक टोकरी में 32 अंडे हैं, ऐसी ही 3 टोकरियों में कितने अंडे होंगे? $1 \times 4 = 4$

(ख) राजू 18 लड्डू लाया। अगर वह 2 लड्डू हर एक लड़के को बाँटे तो कुल कितने बच्चों को लड्डू मिलेंगे? $1 \times 4 = 4$

6. खाली स्थान भरिए— $2 \times 4 = 8$

(क) 120 मिनट = _____ घंटे
(ख) 5500 ग्राम = _____ किग्रा
(ग) 3000 मिलीलीटर = _____ लीटर
(घ) 1 सप्ताह = _____ दिन

7. (क) नीचे दी गई घड़ियों में दर्शाए गए समय को लिखिए—



$$2 \times 4 = 8$$

21:45

___ बजकर ___ मिनट

___ बजकर ___ मिनट

(ख) नीचे दिए गए कैलेंडर को देखकर प्रश्नों के उत्तर दीजिए—

$$1 \times 4 = 4$$

जुलाई 2023					
रविवार	30	2	9	16	23
सोमवार	31	3	10	17	24
मंगलवार		4	11	18	25
बुधवार		5	12	19	26
गुरुवार		6	13	20	27
शुक्रवार		7	14	21	28
शनिवार	1	8	15	22	29

(क) यह किस महीने का कैलेंडर है? _____

(ख) 1 जुलाई को कौन-सा दिन है? _____

(ग) इस महीने में कुल कितने दिन हैं? _____

(घ) महीने में कुल कितने मंगलवार हैं? _____