

भाग क - पढ़ना

कुल अंक - 50

1. दिए गए शब्दों में 'द' और 'ग' अक्षर पर घेरा लगाइए-


1 × 6 = 6



दवात

चादर

शब्द



गरमी

अगर

आग

2. शब्दों को चित्रों से मिलाइए-

1 × 5 = 5

(क)

तरबूज




(ख)

मोर




(ग)

बाल्टी



(घ)

बैग



(ङ)

गधा



3. चित्र में दिखाई गई चीज़ों के नाम पर घेरा लगाइए— $2 \times 4 = 8$



ट्रेन
गठरी

सवारी
घोड़ा

बस
पगड़ी

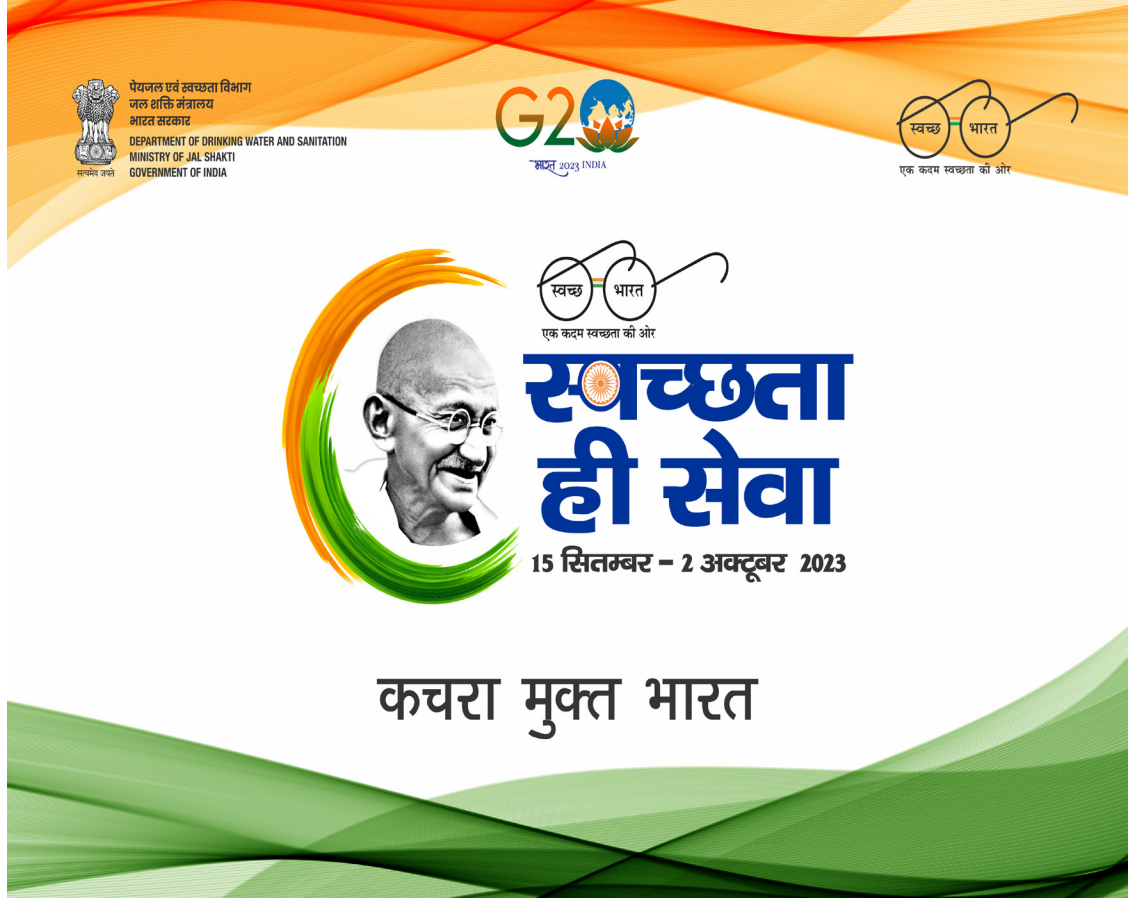
4. वाक्य के दो सही भागों को लाइन खींचकर मिलाइए—

$2 \times 5 = 10$

(क) आज दावत में सबने
(ख) समय हमेशा एक-सा
(ग) बादलों से टप-टप
(घ) रेल यात्रा
(ङ) वोट देने के लिए

पानी बरसने लगा।
मज़े से खाना खाया।
नहीं रहता।
18 वर्ष की आयु होनी चाहिए।
बिना टिकट न करें।

5. पोस्टर को देखिए। उसके बारे में दी गई सही बातों के सामने (✓) और गलत बातों के बारे में (×) का निशान लगाइए— $3 \times 3 = 9$



- (क) स्वच्छता ही सेवा कहा गया है। ()
- (ख) भारत को कचरे से मुक्त करना होगा। ()
- (ग) अभियान 15 दिसंबर को शुरू होगा। ()

6. गद्यांश पढ़कर सही (✓) और गलत (×) का निशान लगाइए—

$$2 \times 6 = 12$$

जनधन योजना में नागरिक किसी भी बैंक में खाता खोल सकते हैं। यह योजना भारत सरकार की है। खाता खुलवाने के लिए आपके पास आधार कार्ड और पैन कार्ड होना चाहिए। अपनी ज़रूरत के लिए कहीं जाने की ज़रूरत नहीं। आपके खाते से संबंधित सामग्री आपको दे दी जाएगी। यह सहायता आपकी ज़रूरतों को पूरा करने के लिए है।

- (क) यह योजना वित्तीय समावेशन को बढ़ावा देने के लिए है। ()
- (ख) जब आप अपने खाते में पैसा जमा करेंगे तभी लाभ मिलेगा। ()
- (ग) खाता खुलवाने के लिए आधार कार्ड चाहिए। ()
- (घ) आपके खाते से संबंधित सामग्री आपको दे दी जाएगी। ()
- (ङ) बैंक में खाता खोलने के लिए बस अपना नाम बताएँ। ()
- (च) यह योजना भारत सरकार की है। ()

भाग ख - लिखना

कुल अंक - 50

1. दिए गए अक्षरों से एक-एक शब्द बनाइए-

$2 \times 3 = 6$


अ

ल

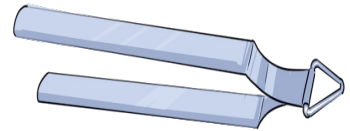
च

2. चित्र देखकर उनके नाम लिखिए-

$2 \times 5 = 10$




.....



.....



.....



.....



.....

3. सही शब्द चुनकर वाक्य पूरे कीजिए –

2 × 4 = 8

सेहत,	लोकतंत्र,	गीला,	संगत
-------	-----------	-------	------

(क) वोट देने से _____ मज़बूत होता है।

(ख) _____ कूड़ा जल्दी नष्ट होता है।

(ग) खानपान का असर _____ पर होता है।

(घ) बुरी _____ से दूर रहना चाहिए।

4. दिए गए शब्दों से वाक्य बनाकर लिखिए–

3 × 3 = 9

(क) गीत -

(ख) दीया -

(ग) किताब -

5. अपने शहर/गाँव एवं जिले का नाम लिखिए–

1 × 2 = 2

(क)

(ख)

6. दिए गए चित्र को देखकर उसके बारे में पाँच वाक्य लिखिए—

$$3 \times 5 = 15$$



(क)

(ख)

(ग)

(घ)

(ङ)

भाग ग – गणित

कुल अंक – 50

1. वस्तुओं को गिनकर उनकी सही संख्या से मिलाइए— $1 \times 6 = 6$

	12
	19
	15
	16
	10
	8

2. क्रम पूरा कीजिए-

$$1 \times 5 = 5$$

(क) 30, _____, 50, 60, 70

(ख) 90, 110, 130, 150, _____

(ग) 100, 95, 90, _____, 80

(घ) 3, _____, 9, 12, 15

(ङ) 18, 20, _____, 24, 26

3. नीचे दिए गए सामान के मूल्य को सही नोटों से मिलाइए-

$$1 \times 3 = 3$$

 <p>₹130</p>	
 <p>₹150</p>	
 <p>₹370</p>	

4. सवाल हल कीजिए— $2 \times 4 = 8$

(क) $80 + 60$ (ख) $75 - 25$ (ग) 25×4 (घ) $9 \overline{)72}$

5. (क) रमेश ने दुकान से ₹ 80 का तेल खरीदा। उसे उस दुकानदार ने ₹12 रुपये की छूट दी। बताइए, अब वह दुकानदार को कितने रुपए देगा? $1 \times 4 = 4$

(ख) यदि 10 कलम का मूल्य ₹60 रुपए है, तो बताइए 2 कलम का मूल्य कितना होगा? $1 \times 4 = 4$

6. खाली स्थान भरिए— $2 \times 4 = 8$

(क) 3 लीटर = _____ मिलीलीटर

(ख) 500 सेमी = _____ मीटर

(ग) 2000 मिलीलीटर = _____ लीटर

(घ) 3000 ग्राम = _____ किलोग्राम

7. (क) नीचे दी गई घड़ियों में दर्शाए गए समय को लिखिए—



___ बजकर ___ मिनट

$$2 \times 4 = 8$$

21:20

___ बजकर ___ मिनट

(ख) नीचे दिए गए कैलेंडर को देखकर प्रश्नों के उत्तर दीजिए—

$$1 \times 4 = 4$$

फरवरी 2023					
रविवार		5	12	19	26
सोमवार		6	13	20	27
मंगलवार		7	14	21	28
बुधवार	1	8	15	22	
गुरुवार	2	9	16	23	
शुक्रवार	3	10	17	24	
शनिवार	4	11	18	25	

(क) इस माह में कुल कितने मंगलवार हैं? _____

(ख) इस माह में कितने दिन हैं? _____

(ग) इस माह की 3 तारीख को कौन-सा दिन है? _____

(घ) इस महीने के पहले रविवार को कौन-सी तारीख है? _____