

## भाग क- पढ़ना

कुल अंक – 50

1. दिए गए शब्दों में 'प' और 'छा' अक्षर पर घेरा लगाइए -  $1 \times 6 = 6$

प

पतंग

लपक

रूप

छा

छाता

छाछ

माछा

2. शब्दों को चित्रों से मिलाइए -

$1 \times 5 = 5$

(क) सूरज




(ख) तीर



(ग) घर



(घ) सुराही



(ङ) ताला



3. चित्र में दिखाई गई किन्हीं चार चीज़ों के नाम पर घेरा लगाइए -

$$2 \times 4 = 8$$



सब्ज़ी

चश्मा

थैला

पगड़ी

तराजू

सूरज

4. वाक्य को सही भाग से मिलाकर पूरा कीजिए -

$$2 \times 5 = 10$$

- |                           |                               |
|---------------------------|-------------------------------|
| (क) अधिक क्रोध करने पर    | हाथ साबुन से धोने चाहिए।      |
| (ख) कुत्ते के काटने से    | नहीं फेंकना चाहिए।            |
| (ग) शौच के बाद            | विवेक नष्ट हो जाता है।        |
| (घ) नदियों में कूड़ा-कचरा | बीमारियों से बचाव होता है।    |
| (ङ) सफाई रखने से          | रेबीज नामक बीमारी हो सकती है। |

5. पोस्टर को देखिए। उसके बारे में दी गई सही बातों के सामने (✓) और गलत बातों के बारे में (×) का निशान लगाइए -  $3 \times 3 = 9$

आज ही लें शिक्षा का फैसला,  
पार करें उम्र भर का फासला।

शिक्षण १ सुनगम्यं  
एन सी ई आर टी  
NATIONAL COUNCIL OF EDUCATIONAL RESEARCH AND TRAINING

नव भारत साक्षरता कार्यक्रम

के शिक्षा का विभाग  
CENTRAL BOARD OF SECONDARY EDUCATION  
एन सी ई आर टी - दिल्ली

- (क) जितना जल्दी हो सके, पढ़ाई का फैसला ले लें। ( )
- (ख) पढ़ने लिखने की कोई उम्र नहीं होती है। ( )
- (ग) बचपन में ही पढ़ाई-लिखाई कर सकते हैं। ( )

6. पत्र को पढ़कर सही (✓) और गलत (×) का निशान लगाइए -  
2 × 6 = 12

राजेंद्र नगर

दिल्ली

12 जनवरी, 2024

प्रिय सुमन,

सदा खुश रहो। तुम्हारा पत्र पढ़कर बहुत अच्छा लगा। छोटा माधव कैसा है? अब तो वह 4 महीने का हो चुका होगा। पत्र से पता चला कि अस्पताल दूर होने के कारण तुम समय पर उसे टीके नहीं लगवा पा रही हो। छोटे बच्चों को समय पर टीका लगवाना आवश्यक है। इससे वे कई जानलेवा बीमारियों से बचे रहते हैं। मैं भी छुट्टियों में माधव से मिलने गाँव आऊँगी।

तुम्हारी बहन

सरोज

- (क) पत्र सरोज ने दिल्ली से लिखा है। ( )
- (ख) सुमन के बेटे का नाम संतोष है। ( )
- (ग) अस्पताल दूर होने के कारण सुमन माधव का टीका नहीं लगवा पा रही। ( )
- (घ) छोटे बच्चों को समय पर टीके लगवाना आवश्यक है। ( )
- (ङ) सही समय पर टीका लगाने पर बच्चे कई बीमारियों से बच सकते हैं। ( )
- (च) सरोज की बहन का नाम सुमन है। ( )

# भाग ख - लिखना

कुल अंक – 50

1. दिए गए अक्षरों से एक-एक शब्द बनाकर लिखिए -  $2 \times 3 = 6$

दो - .....


सा - .....

री - .....

2. चित्र देखकर उनके नाम लिखिए -  $2 \times 5 = 10$



.....




.....



.....



.....



.....

3. सही शब्द चुनकर वाक्य पूरे कीजिए –

2 × 4 = 8

|          |      |           |       |
|----------|------|-----------|-------|
| सुविधाएँ | पानी | स्वास्थ्य | ज़रूर |
|----------|------|-----------|-------|

(क) व्यायाम करने से \_\_\_\_\_ अच्छा रहता है।

(ख) बच्चों को स्कूल \_\_\_\_\_ भेजें।

(ग) अपने घर के आसपास \_\_\_\_\_ इकट्ठा न होने दें।

(घ) जनधन अकाउंट खुलवाने पर सरकार अनेक \_\_\_\_\_ देती है।

4. दिए गए शब्दों से वाक्य बनाकर लिखिए -

3 × 3 = 9

(क) मोबाइल - .....

(ख) मौसम - .....

(ग) परेशानी - .....

5. अपने और एक पड़ोसी राज्य का नाम लिखिए –

1 × 2 = 2

(क) अपने राज्य का नाम - .....

(ख) पड़ोसी राज्य का नाम - .....

6. दिए गए चित्र को देखकर उसके बारे में पाँच वाक्य लिखिए –

$3 \times 5 = 15$



(क) .....

(ख) .....

(ग) .....







(घ) .....

(ङ) .....

# भाग ग – गणित

कुल अंक – 50

1. वस्तुओं को गिनकर उनकी सही संख्या से मिलाइए -  $1 \times 6 = 6$

|  |   |
|--|---|
|    | 6 |
|     | 5 |
|    | 9 |
|   | 3 |
|  | 4 |
|   | 7 |

2. क्रम पूरा कीजिए -

$1 \times 5 = 5$

(क) 40, 50, \_\_\_\_\_, 70

(ख) 15, 14, \_\_\_\_\_, 12

(ग) 11, \_\_\_\_\_, 33, 44

(घ) 55, 60, \_\_\_\_\_, 70

(ङ) \_\_\_\_\_, 34, 36, 38

3. नीचे दिए गए सामान के मूल्य को सही नोटों और सिक्के से मिलाइए-

$1 \times 3 = 3$

|  |  |
|--|--|
|  <p>₹ 200</p> |  |
|  <p>₹ 55</p>  |  |
|  <p>₹ 20</p>  |  |

4. सवाल हल कीजिए -

$2 \times 4 = 8$

(क)  $\begin{array}{r} 35 \\ +52 \\ \hline \end{array}$  (ख)  $\begin{array}{r} 76 \\ -43 \\ \hline \end{array}$  (ग)  $51 \times 4$  (घ)  $3)24($

\_\_\_\_\_

\_\_\_\_\_

5. (क) तारा ने राशन की दुकान से राशन का सामान खरीदा। उसने राशन वाले को ₹200 के 5 और ₹50 के 4 नोट दिए। उसने कुल कितने रुपए का राशन खरीदा?  $1 \times 4 = 4$

.....

.....

(ख) हेमा बच्चों को देने के लिए 18 किताबें लाई है। अगर वह एक बच्चे को दो किताबें दे तो वह कितनी बच्चों को किताबें दे पाएगी?

$1 \times 4 = 4$

.....

.....

6. खाली स्थान भरिए-

$2 \times 4 = 8$

(क) 5 किलोग्राम = ..... ग्राम

(ख) 5000 सेंटीमीटर = ..... मीटर

(ग) 2 दर्जन अनार = ..... अनार

(घ) 2500 ग्राम = ..... किलो.....ग्राम

7. (क) दी गई घड़ियों में दर्शाए गए समय को लिखिए-  $2 \times 4 = 8$



18:15

..... बजकर ..... मिनट ..... बजकर ..... मिनट

(ख) कैलेंडर देखकर सवालों के जवाब लिखिए -  $1 \times 4 = 4$

| फरवरी 2024 |   |    |    |    |    |
|------------|---|----|----|----|----|
| रविवार     |   | 5  | 12 | 19 | 26 |
| सोमवार     |   | 6  | 13 | 20 | 27 |
| मंगलवार    |   | 7  | 14 | 21 | 28 |
| बुधवार     |   | 8  | 15 | 22 | 29 |
| गुरुवार    | 1 | 9  | 16 | 23 |    |
| शुक्रवार   | 2 | 10 | 17 | 24 |    |
| शनिवार     | 3 | 11 | 18 | 25 |    |

(क) इस महीने में कितने दिन हैं? .....

(ख) इस महीने की अंतिम दिन की कौन-सी तारीख है? .....

(ग) 26 फरवरी को कौन-सा दिन है? .....

(घ) तीसरे शुक्रवार को कौन-सी तारीख है? .....