

भाग क - पढ़ना

कुल अंक - 50

1. दिए गए शब्दों में 'का' और 'स' अक्षर पर घेरा लगाइए-

1 × 6 = 6

का

कानून

मकान

मक्का

स

समुद्र

कसना

पास

2. शब्दों को उनके चित्रों से मिलाइए-

1 × 5 = 5

(क)

गागर



(ख)

छाता



(ग)

रिक्शा



(घ)

पेड़



(ङ)

चाकू



3. चित्र में दिखाई गई किन्हीं चार चीज़ों के नाम पर घेरा लगाइए—

$$2 \times 4 = 8$$



बैग

डिजिटल घड़ी

कुली

बस

रेलगाड़ी

ठेला

4. वाक्य को उनके सही भाग से लाइन खींचकर मिलाइए—

$$2 \times 5 = 10$$

(क) तेल का भंडार

चित्रकला है।

(ख) 1 वर्ष में

स्वास्थ्य के लिए हानिकारक है।

(ग) धूम्रपान

देर भली।


(घ) दुर्घटना से

सीमित है।

(ङ) मधुबनी एक

365 दिन होते हैं।

5. पोस्टर को देखिए। उसके बारे में दी गई सही बातों के सामने (✓) और गलत बातों के बारे में (×) का निशान लगाइए— $3 \times 3 = 9$



- (क) यह पोस्टर स्टेशन से संबंधित है ()
- (ख) बिना टिकट यात्रा करना अपराध है। ()
- (ग) यह चित्र मेट्रो स्टेशन का है। ()

6. गद्यांश पढ़कर सही (✓) और गलत (×) का निशान लगाइए—

2 × 6 = 12

ओमना और उसकी पक्की सहेली राधा बहुत खुश थीं। वे साथ-साथ ट्रेन से केरल जो जा रही थीं। ओमना जा रही थी अपनी नानी के घर और राधा अपने परिवार के साथ छुट्टी मनाने। ओमना के अप्पा ही गए थे, दोनों परिवारों के लिए टिकट बुक कराने।

- (क) ओमना और राधा सहेली हैं। ()
- (ख) वह बस से जा रहे थे। ()
- (ग) ओमना नानी के घर जा रही थी। ()
- (घ) वह दोनों केरल जा रहे थे। ()
- (ङ) ओमना का भाई टिकट बुक कराने गया। ()
- (च) दोनों परिवारों के लिए टिकट बुक की गई। ()

भाग ख - लिखना

कुल अंक - 50

1. दिए गए अक्षरों से एक-एक शब्द बनाइए-

2 × 3 = 6

च

ए

पा

2. चित्र देखकर उनके नाम लिखिए-

2 × 5 = 10



.....



.....



.....



.....



.....

3. सही शब्द चुनकर वाक्य पूरे कीजिए –

2 × 4 = 8

| | | | |
|-----|-----------|--------|---------|
| हाथ | एफ.आई.आर. | नियमों | जानकारी |
|-----|-----------|--------|---------|

- (क) सभी ऑनलाइन _____ पर विश्वास न करें।
(ख) पड़ताल _____ दर्ज होने के बाद शुरू की जाती है।
(ग) खाना खाने से पहले _____ अवश्य धोएँ।
(घ) सड़क सुरक्षा _____ का पालन करें।

4. दिए गए शब्दों से वाक्य बनाकर लिखिए–

3 × 3 = 9

- (क) फॉर्म-
(ख) लाठी -
(ग) छाता -

5. अपने गावँ और एक मित्र का नाम लिखिए -

1 × 2 = 2

- (क) गावँ का नाम -
(ख) मित्र का नाम-

6. दिए गए चित्र को देखकर उसके बारे में पाँच वाक्य लिखिए—

3 × 5 = 15



(क)

(ख)

(ग)

(घ)


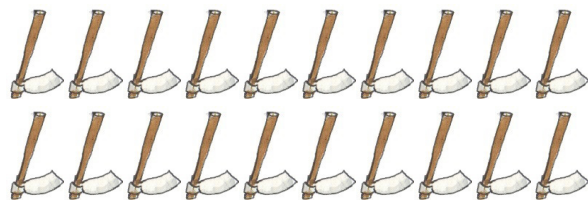




(ङ)

भाग ग – गणित

कुल अंक – 50

1. वस्तुओं को गिनकर उनकी सही संख्या से मिलाइए–

$$1 \times 6 = 6$$

| | |
|---|----|
|  | 12 |
|  | 15 |
|  | 20 |
|  | 8 |
|  | 18 |
|  | 24 |

2. क्रम पूरा कीजिए-

$1 \times 5 = 5$

(क) 20, 50, 80, _____, 140, 170

(ख) 302, 303, 304, _____, 306, 307

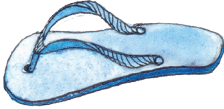





(ग) 11, 21, 31, _____, 51, 61

(घ) 62, 65, 68, _____, 74, 77

(ङ) 100, 200, _____, 400, 500, 600

3. नीचे दिए गए सामान के मूल्य को सही नोटों से मिलाइए-

$1 \times 3 = 3$

| | |
|---|--|
|  <p>₹130</p> |  |
|  <p>₹250</p> |  |
|  <p>₹170</p> |  |

4. सवाल हल कीजिए -

$2 \times 4 = 8$

| | | | | | | | |
|-----|-------|-----|-------|-----|------------|-----|--------------------|
| (क) | 46 | (ख) | 81 | (ग) | 27 | (घ) | $4 \overline{)32}$ |
| | + 58 | | - 48 | | $\times 9$ | | |
| | <hr/> | | <hr/> | | <hr/> | | |
| | <hr/> | | <hr/> | | <hr/> | | |

5. (क) सोनू ने ₹190 के जूते तथा ₹ 245 की कमीज़ खरीदी। सोनू ने कुल कितने रुपये खर्च किए ?

$1 \times 4 = 4$

(ख) एक डिब्बे में 8 गेंद आती हैं। ऐसे 12 डिब्बों में कुल कितनी गेंदें आएँगी ?

$1 \times 4 = 4$

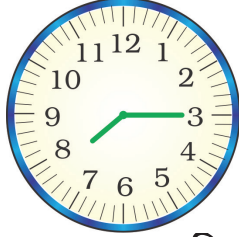
6. खाली स्थान भरिए -

$2 \times 4 = 8$

| | | | | |
|-----|----------------|---|-------|------------|
| (क) | 7 किलोमीटर | = | <hr/> | मीटर |
| (ख) | 48 केले | = | <hr/> | दर्जन केले |
| (ग) | 7000 सेंटीमीटर | = | <hr/> | मीटर |
| (घ) | 4000 मिलीमीटर | = | <hr/> | लीटर |

7. (क) नीचे दी गई घड़ियों में दर्शाए गए समय को लिखिए -

$$2 \times 4 = 8$$



___ बजकर ___ मिनट



___ बजकर ___ मिनट

(ख) नीचे दिए गए कैलेंडर को देखकर प्रश्नों के उत्तर दीजिए-

$$1 \times 4 = 4$$

| सितंबर 2023 | | | | | |
|-------------|---|---|----|----|----|
| रविवार | | 3 | 10 | 17 | 24 |
| सोमवार | | 4 | 11 | 18 | 25 |
| मंगलवार | | 5 | 12 | 19 | 26 |
| बुधवार | | 6 | 13 | 20 | 27 |
| गुरुवार | | 7 | 14 | 21 | 28 |
| शुक्रवार | 1 | 8 | 15 | 22 | 29 |
| शनिवार | 2 | 9 | 16 | 23 | 30 |

(क) इस महीने में कितने सोमवार हैं? _____

(ख) इस महीने में कुल कितने दिन हैं? _____

(ग) चौथे शनिवार को कौन-सी तारीख है? _____

(घ) 30 सितंबर को कौन-सा दिन है? _____