

## भाग क - पढ़ना

कुल अंक - 50

1. दिए गए शब्दों में 'ड' और 'खा' अक्षर पर घेरा लगाइए-

1 × 6 = 6

ड

डलिया

निडर

घमंड

खा

खाना

खादी

चरखा

2. शब्दों को उनके चित्रों से मिलाइए-

1 × 6 = 6

(क)

कुर्सी



(ख)

घड़ा



(ग)

चूल्हा



(घ)

डाकिया



(ड)

दवाई



3. चित्र में दिखाई गई चार चीज़ों के नाम पर घेरा लगाइए—

$$2 \times 4 = 8$$



घड़ी  
मुर्गी

कपड़े  
कार

साइकिल  
पेड़

4. वाक्य को उनके सही भाग से लाइन खींचकर मिलाइए—

$$2 \times 5 = 10$$

(क) बिना टिकट यात्रा

वातावरण शुद्ध होता है।

(ख) दिशा-सूचक

दाएँ-बाएँ अवश्य देखें।

(ग) चेक से पैसों का

रास्ता देखने में मदद करता है।

(घ) पेड़-पौधे लगाने से

लेन-देन हो सकता है।

(ङ) सड़क पार करते समय

करना अपराध है।

5. पोस्टर को देखिए। उसके बारे में दी गई सही बातों के सामने (✓) और गलत बातों के बारे में (×) का निशान लगाइए—

3 × 3 = 9

विश्व उपभोक्ता अधिकार दिवस  
पर आप भी जागरूक उपभोक्ता बनने का  
संकल्प लीजिये और अपने अधिकारों का  
उपयोग कर सक्षम उपभोक्ता बलिए...

जागो ग्राहक जागो

विश्व उपभोक्ता अधिकार दिवस  
15 मार्च 2010

APBoardSolutions.com

✓ किसी भी उत्पाद/सेवा के बारे में जानने का है पूरा अधिकार

✓ खरीदारी से पहले उससे संबंधित पूरी जानकारी लेने का अधिकार

✓ खतरनाक/असुरक्षित वस्तु अथवा सेवा से सुरक्षित रहने का आपका अधिकार

कुछ भी चुनने का है अधिकार

✓ आपकी बात पूरी सुनी जाए, यह है आपका अधिकार

✓ वस्तु/सेवा से संतुष्ट न होने पर शिकायत करने का है अधिकार

जानिये अपने अधिकार उनका उपयोग करें हर बार

अपन क्षेत्र क उपभोक्ता फोरम का पता करने के लिए [www.ncdrc.in](http://www.ncdrc.in) पर लॉग ऑन करें।

- (क) यह जागो ग्राहक जागो का पोस्टर है। ( )
- (ख) अधिकतम खुदरा मूल्य से अधिक भुगतान करें। ( )
- (ग) खुदरा मूल्य से अधिक दाम वसूलना दंडनीय है। ( )

6. गद्यांश पढ़कर सही (✓) और गलत (×) का निशान लगाइए—

2 × 6 = 12

मैं हूँ बसवा। मैं कर्नाटक के बेलवनिका गाँव में रहता हूँ। मेरे अप्पा किसान हैं। जुलाई का महीना है। हर बार की तरह इस बार भी, अप्पा प्याज़ उगाने की तैयारी में हैं। खेती करने के लिए अप्पा को कितने सारे काम करने पड़ते हैं। जब ज़रूरत पड़ती है, तो अप्पा मुझे अपने साथ खेत में ले जाते हैं। पिछले कुछ दिनों में अप्पा ने 'खुँटी' की मदद से खेत की मिट्टी को नरम किया है।

- (क) बसवा बेलवनिका में रहता है। ( )
- (ख) बेलवनिका केरल में है। ( )
- (ग) बसवा के अप्पा किसान हैं। ( )
- (घ) वह मार्च में प्याज़ की खेती करते हैं। ( )
- (ङ) अप्पा खुँटी की मदद से मिट्टी को नरम करते हैं। ( )
- (च) बसवा ज़रूरत पड़ने पर खेत जाता है। ( )

# भाग ख - लिखना

कुल अंक - 50

1. दिए गए अक्षरों से एक-एक शब्द बनाइए-

2 × 3 = 6


व .....

रा .....

ती .....

2. चित्र देखकर उनके नाम लिखिए-

2 × 5 = 10



.....



.....



.....



.....



.....

3. सही शब्द चुनकर वाक्य पूरे कीजिए—

2 × 4 = 8

बीमारियाँ,	दुर्घटना,	फलों,	खाना
------------	-----------	-------	------

(क) ——— खाकर तुरंत न सोयें।

(ख) अखबार में ————— की खबर छपी है।

(ग) गंदगी से ————— फैलती हैं।

(घ) ————— को धोकर खाएँ।

4. दिए गए शब्दों से वाक्य बनाकर लिखिए—

3 × 3 = 9

(क) रूपए - .....

(ख) बैंक - .....

(ग) रास्ता - .....

5. अपनी माता और पिता का नाम लिखिए—


1 × 2 = 2

(क) माता का नाम- .....

(ख) पिता का नाम - .....

6. दिए गए चित्र को देखकर उसके बारे में पाँच वाक्य लिखिए—

3 × 5 = 15



(क) .....

(ख) .....

(ग) .....







(घ) .....

(ङ) .....

# भाग ग – गणित

कुल अंक – 50

1. वस्तुओं को गिनकर उनकी सही संख्या से मिलाइए–  $1 \times 6 = 6$

	22
	17
	12
	11
	8
	15

2. क्रम पूरा कीजिए-

$1 \times 5 = 5$

(क) 11, 21, 31, \_\_\_\_\_, 51, 61

(ख) 13, 16, 19, \_\_\_\_\_, 25, 28

(ग) 30, 40, 50, \_\_\_\_\_, 70, 80

(घ) 101, 102, \_\_\_\_\_, 104, 105, 106

(ङ) 24, 26, 28, \_\_\_\_\_, 32, 34, 36

3. नीचे दिए गए सामान के मूल्य को सही नोटों से मिलाइए-

$1 \times 3 = 3$

 <p>₹250</p>	 
 <p>₹450</p>	 
 <p>₹320</p>	 

4. सवाल हल कीजिए-

$2 \times 4 = 8$

(क) 
$$\begin{array}{r} 57 \\ + 27 \\ \hline \hline \end{array}$$
 (ख) 
$$\begin{array}{r} 82 \\ - 45 \\ \hline \hline \end{array}$$
 (ग) 
$$\begin{array}{r} 33 \\ \times 7 \\ \hline \hline \end{array}$$
 (घ) 
$$\begin{array}{r} 8 \overline{)56} \\ \hline \hline \end{array}$$

5. (क) सोनिया के पास ₹120 रुपये हैं। उसने दुकान से ₹85 का सामान खरीदा। अब उसके पास कुल कितने रुपए बचे हैं?

$1 \times 4 = 4$

---

---

(ख) बिस्किट के एक पैकेट का मूल्य ₹32 है। ऐसे 8 पैकेट लेने पर दुकानदार को कुल कितने रुपए देने होंगे?

$1 \times 4 = 4$

---

---

6. खाली स्थान भरिए -

$2 \times 4 = 8$

(क) 5 किलोमीटर = \_\_\_\_\_ मीटर  
(ख) 7000 मिलीलीटर = \_\_\_\_\_ लीटर  
(ग) 6000 सेंटीमीटर = \_\_\_\_\_ मीटर  
(घ) 2 दर्जन केले = \_\_\_\_\_ केले

7. (क) नीचे दी गई घड़ियों में दर्शाए गए समय को लिखिए-

$$1 \times 4 = 4$$



\_\_\_ बजकर \_\_\_ मिनट

\_\_\_ बजकर \_\_\_ मिनट

(ख) नीचे दिए गए कैलेंडर को देखकर प्रश्नों के उत्तर दीजिए-

$$2 \times 4 = 8$$

मार्च 2024					
रविवार	31	3	10	17	24
सोमवार		4	11	18	25
मंगलवार		5	12	19	26
बुधवार		6	13	20	27
गुरुवार		7	14	21	28
शुक्रवार	1	8	15	22	29
शनिवार	2	9	16	23	30

(क) इस महीने में पहला दिन कौन-सा है? \_\_\_\_\_

(ख) इस महीने में कुल कितने दिन हैं? \_\_\_\_\_

(ग) दूसरे शनिवार की कौन-सी तारीख है? \_\_\_\_\_

(घ) 15 मार्च को कौन-सा दिन है? \_\_\_\_\_