


Worksheet

कार्य-पत्रक 1

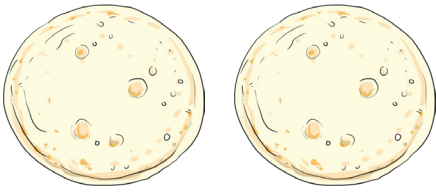
निर्देश- वस्तुओं को गिनकर सही संख्या से मिलाइए –




1



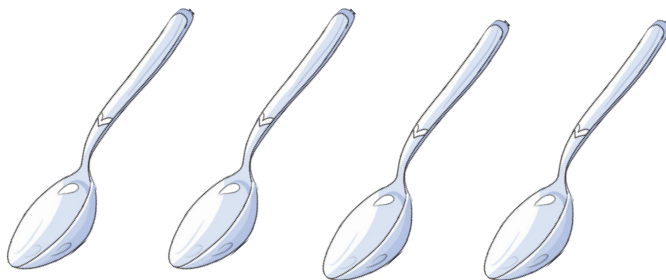
4



3



5



2

हमने सीखा- वस्तुओं के समूह की संख्या को उनके संख्यांक से मिलान करते हैं।