



Worksheet

कार्य-पत्रक 2

निर्देश- वस्तुओं को गिनकर सही संख्या से मिलाइए –



10




8



6



9



7



हमने सीखा- वस्तुओं के समूह की संख्या को उनके संख्यांक से मिलान करते हैं।