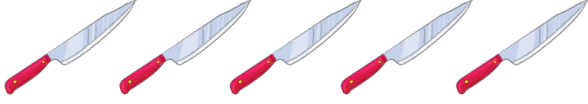


Worksheet

कार्य-पत्रक 3

निर्देश- वस्तुओं को गिनकर सही संख्या से मिलाइए –



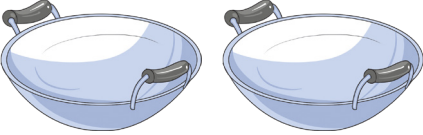
3



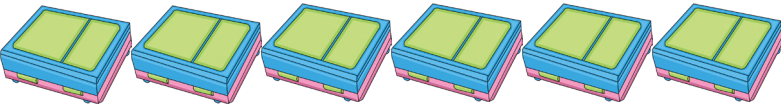
1




4




10



2



9



8




5



6



7



हमने सीखा- वस्तुओं के समूह की संख्या को उनके संख्यांक से मिलान करते हैं।