






## Worksheet

### कार्य-पत्रक 39

निर्देश - फैक्ट्री मालिक ने अपने कर्मचारियों को उनके काम के हिसाब से नीचे दर्शाए गए रुपये दिए। गिनकर लिखिए किसे कितने रुपये मिले हैं?

1.	सुमन		
2.	बिमला		
3.	रमेश		
4.	निधि		
5.	निहाल		

हमने सीखा- नोटों व सिक्कों पर लिखे संख्याओं ( रु 1, रु 2, रु 5, रु 10, रु 20, रु 50 और रु 100 ) पहचानना एवं उसका लेन-देन करना।