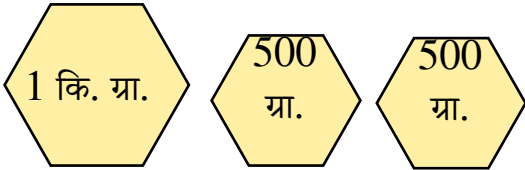
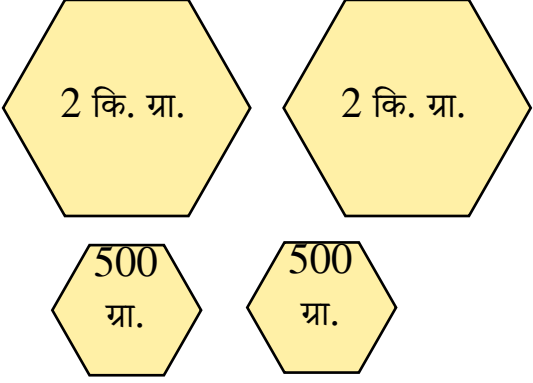
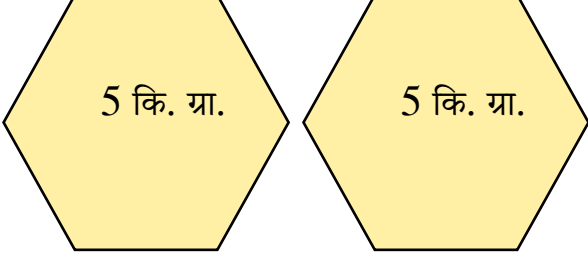
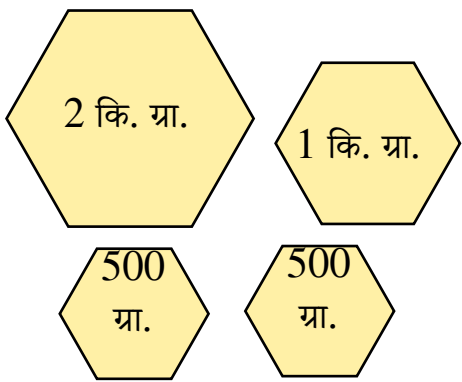


Worksheet

कार्य-पत्रक 65

निर्देश- नीचे दिए गए बाटों के कुल वजन को किलोग्राम एवं ग्राम को लिखिए-

1.		_____ कि. ग्रा.	_____ ग्रा.
2.		_____ कि. ग्रा.	_____ ग्रा.
3.		_____ कि. ग्रा.	_____ ग्रा.
4.		_____ कि. ग्रा.	_____ ग्रा.

हमने सीखा- वजन मापने के विभिन्न बाटों की पहचान और प्रयोग करना।