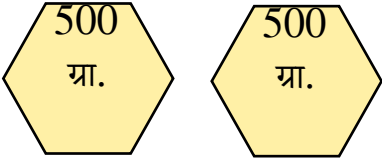
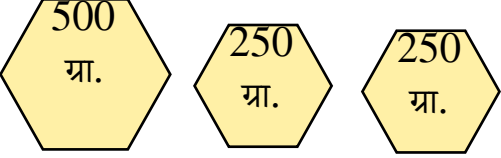

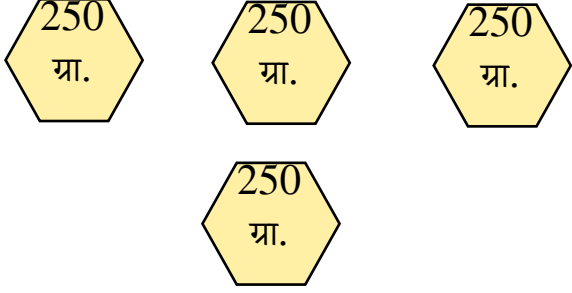


Worksheet

कार्य-पत्रक 66

निर्देश- नीचे दिए गए बाटों के कुल वजन को किलोग्राम एवं ग्राम को लिखिए-

1.		_____ कि. ग्रा.
2.		_____ कि. ग्रा.
3.		_____ कि. ग्रा.
4.		_____ कि. ग्रा.

हमने सीख- वजन मापने के विभिन्न बाटों की पहचान और प्रयोग करना। वजन मापने के विभिन्न बाटों की पहचान और प्रयोग करना। 1 किलोग्राम, $\frac{1}{2}$ किलोग्राम तथा $\frac{1}{4}$ किलोग्राम को ग्राम में मापना।