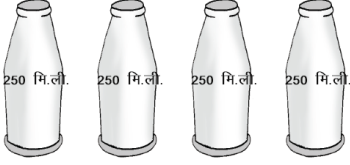
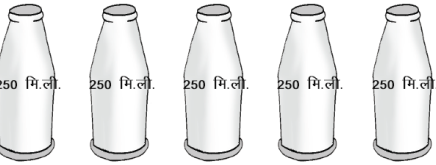
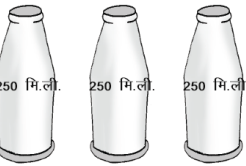



Worksheet

कार्य-पत्रक 76

निर्देश- राहत कैंप में रहने वाले परिवारों को दूध की थैलियाँ दी गईं। दूध की एक थैली 250 मि.ली. की थी। एक परिवार में जितने सदस्य हैं, उतनी ही दूध की थैलियाँ दी गईं। नीचे दी गई तालिका को देखिए और भरिए-

*(पहली क्रम संख्या हल की गई है)

क्र.म.	दूध की थैलियाँ दी गईं	परिवार के सदस्यों की संख्या	कुल दूध जो परिवार को मिला
1.		4	_____मी.ली.
2.			_____मी.ली.
3.			_____मी.ली.
4.			_____मी.ली.

हमने सीखा: 1 लीटर, ½ लीटर, ¼ लीटर को मिलीलीटर में मापना। दैनिक जीवन में जोड़, घटा, गुणा का प्रयोग करना।