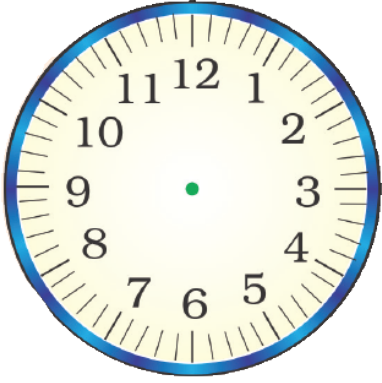


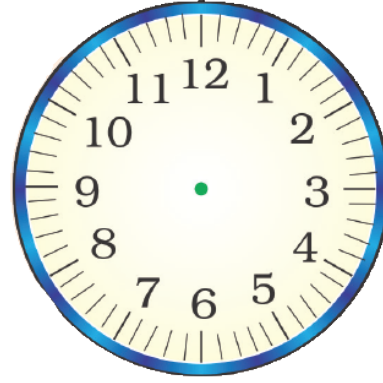
Worksheet

कार्य-पत्रक 85

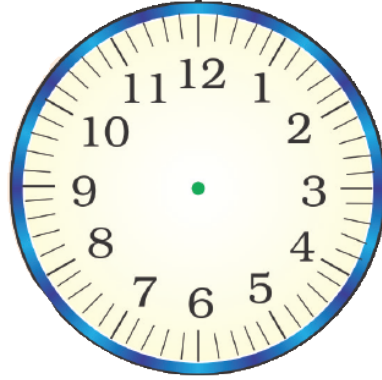
निर्देश- दिए गए समय के अनुसार घड़ियों में सुइयों से समय बताइए -



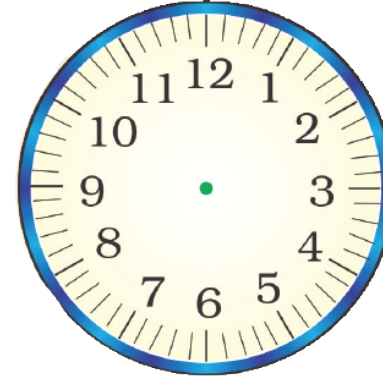
01:45 बजे



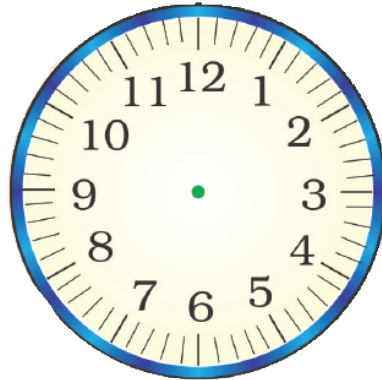
02:45 बजे



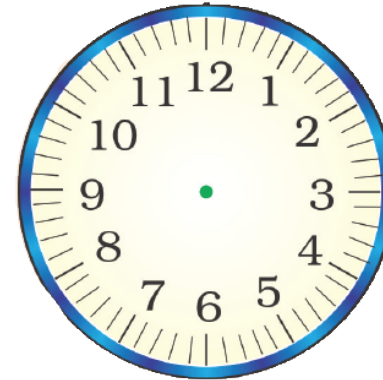
03:45 बजे



05:45 बजे



10:45 बजे



12:45 बजे

हमने सीखा- घड़ी द्वारा दर्शाए गए समय को बताना एवं लिखना।