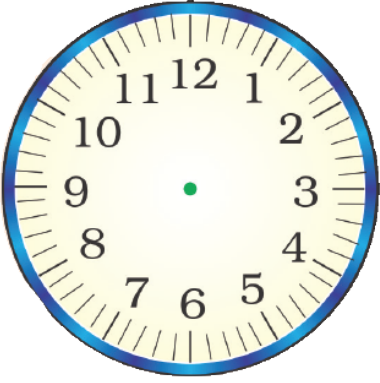


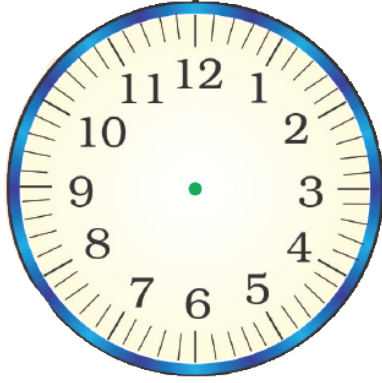
Worksheet

कार्य-पत्रक 86

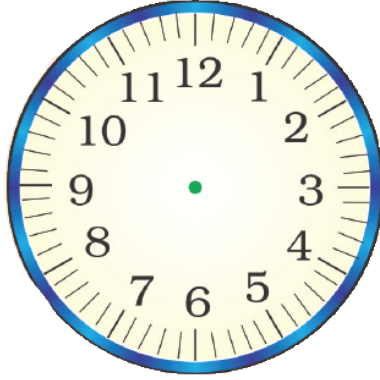
निर्देश- दिए गए समय के अनुसार घड़ियों में सुइयों से समय बताइए -



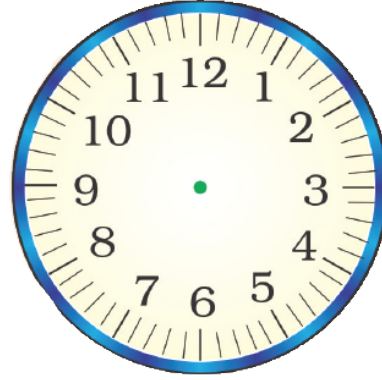
03:15 बजे



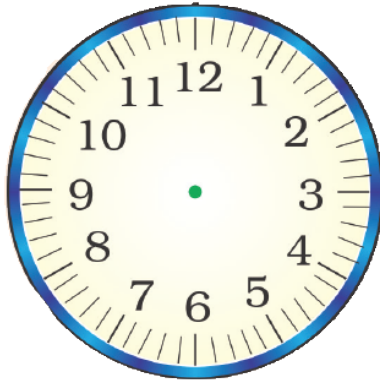
05:15 बजे



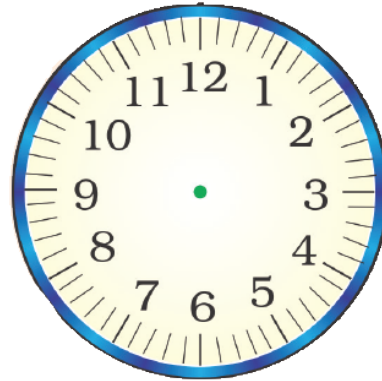
06:15 बजे



08:15 बजे



10:15 बजे



12:15 बजे

हमने सीखा- घड़ी द्वारा दर्शाए गए समय को बताना एवं लिखना।