

ଅଧ୍ୟାୟ-୧

କାର୍ଯ୍ୟପତ୍ର - ୭


(ମୌଳିକ ସଂଖ୍ୟାଜ୍ଞାନ)

୧. ତଳେ ଥିବା ସଂଖ୍ୟା ସହ ଚିତ୍ରକୁ ଯୋଡ଼ ।

୧

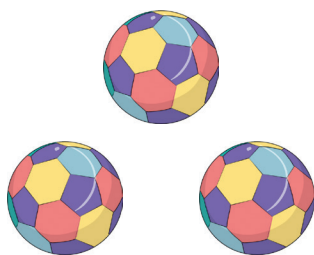


୨



୩

୪



୫


ଅଧ୍ୟାୟ-୧

କାର୍ଯ୍ୟପତ୍ର - ୭

ମୌଳିକ ସଂଖ୍ୟାଜ୍ଞାନ

ତଳେ ଥିବା ସଂଖ୍ୟା ସହ ଚିତ୍ରକୁ ଯୋଡ଼ ।


୭



୭



୮



୯



୧୦






ଅଧ୍ୟାୟ-୧

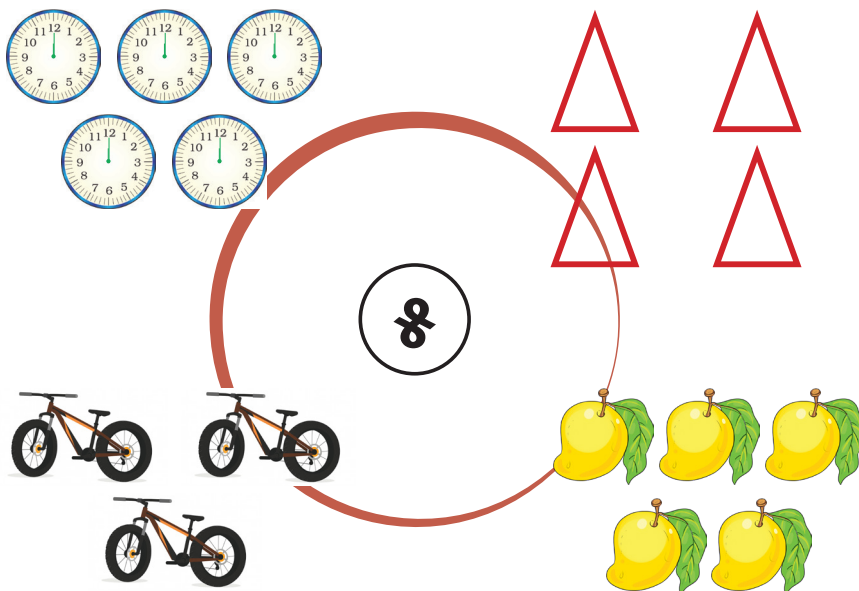
କାର୍ଯ୍ୟପତ୍ର - ୮

(ମୌଳିକ ସଂଖ୍ୟାଜ୍ଞାନ)

୧. ଚିତ୍ରକୁ ଗଣି ତାହାଣ ପାଖରେ ସଂଖ୍ୟାଟି ଲେଖ ।

୨) ମଝିରେ ଥିବା ସଂଖ୍ୟା ପାଖରେ ଦିଆ ଯାଇଥିବା ବସ୍ତୁକୁ ଗଣି ଯୋଡ଼ ।

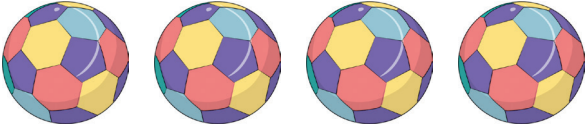






ଅଧ୍ୟାୟ-୧

କାର୍ଯ୍ୟପଦ - ୯

(ମୌଳିକ ସଂଖ୍ୟାଜ୍ଞାନ)

୧) ବାମ ପଟେ ଥିବା ସଂଖ୍ୟା ଡାହାଣ ପଟେ ଥିବା ଠିକ୍ ଚିତ୍ର ସଂଖ୍ୟା ସହ ଯୋଡ଼ ।

୩	
୫	
୮	
୪	
୭	

୨) ସାରଣୀଟି ପୂରଣ କର

ଯେମିତି ୩ କୁ ଲେଖାଯାଏ	ତିନି
ସେହିଭଳି	
୮ କୁ ଆମେ ଲେଖିବା	
୭ କୁ ଆମେ ଲେଖିବା	
୪ କୁ ଆମେ ଲେଖିବା	


ଅଧ୍ୟାୟ-୨

କାର୍ଯ୍ୟପତ୍ର - ୨



(ମୌଳିକ ସଂଖ୍ୟାଜ୍ଞାନ)

୧) ତଳେ ଥିବା ସଂଖ୍ୟା ସହ ଚିତ୍ରକୁ ଯୋଡ଼ ।

୧୧




୧୨



୧୩

୧୪



୧୫



ଅଧ୍ୟାୟ-୨

କାର୍ଯ୍ୟପତ୍ର - ୭



(ମୌଳିକ ସଂଖ୍ୟାଜ୍ଞାନ)

୧) ତଳେ ଥିବା ସଂଖ୍ୟା ସହ ଚିତ୍ରକୁ ଯୋଡ଼ ।



୧୭





୧୭



୧୮



୧୯



୨୦






ଅଧ୍ୟାୟ-୨






କାର୍ଯ୍ୟପତ୍ର - ୮

(ମୌଳିକ ସଂଖ୍ୟାଜ୍ଞାନ)

୧) ଚିତ୍ରକୁ ଗଣି ଡାହାଣ ପାଖରେ ସଂଖ୍ୟା ଟି ଲେଖା ।

୨) ମଝିରେ ଥିବା ସଂଖ୍ୟାକୁ ପାଖରେ ଦିଆଯାଇଥିବା ବସ୍ତୁକୁ ଗଣି ଯୋଡ଼ ।

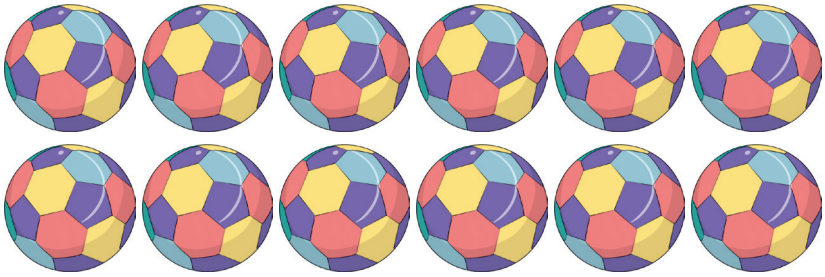



	
	
	

ଅଧ୍ୟାୟ-୨

କାର୍ଯ୍ୟପତ୍ର - ୯

(ମୌଳିକ ସଂଖ୍ୟାଜ୍ଞାନ)


୧) ବାମ ପଟେ ଥିବା ସଂଖ୍ୟା ଡାହାଣ ପଟେ ଥିବା ଚିତ୍ର ସଂଖ୍ୟା ସହିତ ଯୋଡ଼।

<p>୧୩</p>	
<p>୧୫</p>	
<p>୧୧</p>	
<p>୧୪</p>	

ଅଧ୍ୟାୟ-୨

କାର୍ଯ୍ୟପତ୍ର - ୧୦

(ମୌଳିକ ସଂଖ୍ୟାଜ୍ଞାନ)



୨) ସାରଣୀଟି ପୂରଣ କର

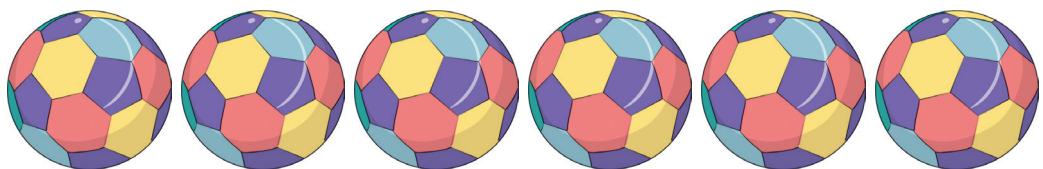
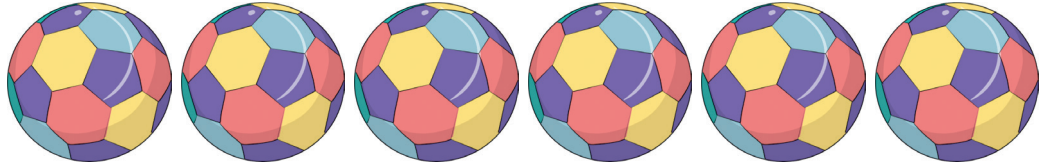
ଯେମିତି ୧୧ କୁ ଲେଖାଯାଏ	ଏଗାର
ସେହିଭଳି ୧୨ କୁ ଆମେ ଲେଖିବା	
୧୩ କୁ ଆମେ ଲେଖିବା	
୧୪ କୁ ଆମେ ଲେଖିବା	

ଅଧ୍ୟାୟ-୨

କାର୍ଯ୍ୟପତ୍ର - ୧୧

(ମୌଳିକ ସଂଖ୍ୟାଜ୍ଞାନ)

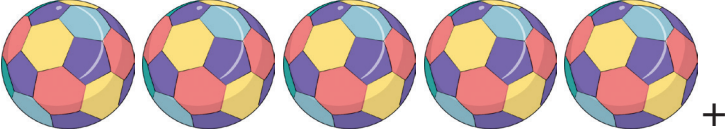
୧) ବାମପଟେ ଥିବା ସଂଖ୍ୟାକୁ ଦେଖି ଡାହାଣପଟେ ଥିବା ଖାଲି ସ୍ଥାନରେ ସେହି ସଂଖ୍ୟା ସହ ସମାନ ବଲ୍ ଚିତ୍ର କର ।

କ୍ଷେପରି	
୧୭	
୧୮	
୨୦	

୨) ଦିଆଯାଇଥିବା 5 ଟଙ୍କା ନୋଟରେ ୫ କେଡେ ଥର ଅଛି?



୩) ସାରଣୀଟି ପୂରଣ କର

	$9 + ୩$	$= ୫$
