





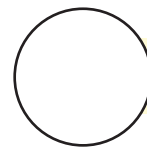
आंकड़ों का उपयोग



0120CH09



ऊपर के चित्र में बनी हुई आकृतियों को गिनिए।



आकृतियों के नाम लिखिए

जो सबसे अधिक बार आई हैं

जो सबसे कम बार आई हैं

शिक्षकों के लिए

आँकड़ों का उपयोग की समझ विकसित करने के लिए पृष्ठ संख्या 147 देखें।



ये सभी बच्चे आपस में मित्र हैं।

प्रत्येक बच्चे के नाम में आए अक्षरों को गिनिए और लिखिए

नाम	अक्षरों की संख्या
श ब न म	<input type="text"/>
जो स फ़	<input type="text"/>
य श पा ल	<input type="text"/>
उ द य	<input type="text"/>
सु हा सि नी	<input type="text"/>
अ म र पा ल	<input type="text"/>
स म र जी त	<input type="text"/>
श या मा	<input type="text"/>
अ ह म द	<input type="text"/>

कितने नामों में तीन अक्षर आए हैं।

कितने नामों में चार अक्षर आए हैं।

कितने नामों में पाँच अक्षर आए हैं।

ऊपर लिखे सभी नामों में **म** कितनी बार आया है?

ऊपर लिखे सभी नामों में **य** कितनी बार आया है?