



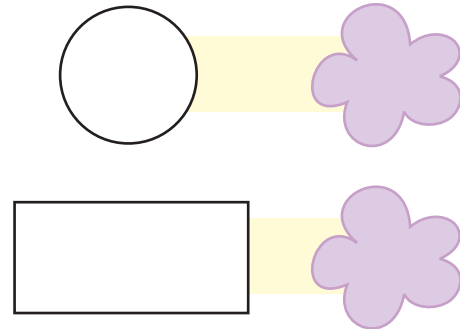
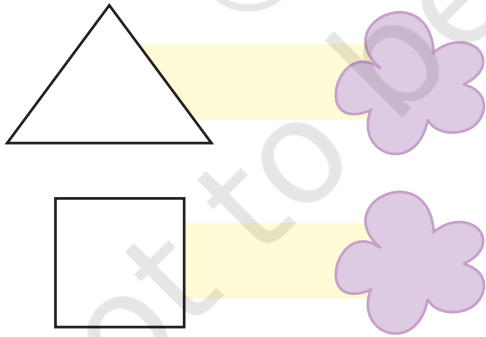


4107CH09

اعداد و شمار کا استعمال



اوپر کی تصویر میں شکل کی گنتی کیجیے۔



جو سب سے کم ہیں

شکلوں کے نام بتائیے

جو سب سے زیادہ ہیں





مندرجہ ذیل نچے آپس میں دوست ہیں۔
ہر نچے کے نام میں آنے والے حروف کی گنتی کیجیے۔

حروف کی تعداد

نام

<input type="text"/>	س	ل	م	ہ			
<input type="text"/>	ج	و	ز	ف			
<input type="text"/>	ا	ر	ن				
<input type="text"/>	چ	ن	ٹ	و			
<input type="text"/>	گ	ی	ت	ا			
<input type="text"/>	آ	ش	ا				
<input type="text"/>	س	ب	ب	و			
<input type="text"/>	ا	ح	م	د			
<input type="text"/>	ر	و	ی				

کتنے ناموں میں چار حروف ہیں

کتنے ناموں میں پانچ حروف ہیں

کتنے ناموں میں چھ حروف ہیں

<input type="text"/>	سارے ناموں میں کل ملا کر س کتنی بار آتا ہے۔
<input type="text"/>	سارے ناموں میں کل ملا کر ا کتنی بار آتا ہے۔